



CONCURSO PÚBLICO - PROVA OBJETIVA

ASSINATURA DO(A) CANDIDATO

Nº DE INSCRIÇÃO

CONTEMAX

CONSULTORIA TÉCNICA E PLANEJAMENTO LTDA

CONCURSO PÚBLICO DO MUNICÍPIO DE PEDRA LAVRADA

N.º 001/2020

CARGO: LAVADEIRA

INSTRUÇÕES:

VERIFIQUE SE ESTE CADERNO:

- Corresponde a sua opção de cargo.
- Contém 40 (quarenta) questões, numeradas de 01 a 40, caso contrário reclame ao fiscal da sala outro caderno. **NÃO** serão aceitas reclamações posteriores.
- Para cada questão existe apenas **UMA** resposta certa.
- Você deve ler cuidadosamente cada uma das questões e escolher a resposta certa.
- A alternativa escolhida deve ser marcada na **FOLHA DE RESPOSTAS** que você recebeu.

VOCÊ DEVE:

- Procurar na **FOLHA DE RESPOSTAS**, o número da questão que você está respondendo.
- Verificar no caderno de prova qual a letra (A, B, C, D, E) da resposta que você escolheu.
- Marcar essa letra na **FOLHA DE RESPOSTAS**, conforme o exemplo: [■].

ATENÇÃO:

- Marque as respostas com caneta esferográfica azul ou preta.
- Marque apenas uma letra para cada questão, mais de uma letra assinalada implicará nota zero à questão.
- Não será permitida qualquer espécie de consulta, nem o uso de máquina calculadora.
- Você terá 3 (três) horas para responder a todas as questões e preencher a folha de respostas.
- Devolva esse caderno de prova ao aplicador, juntamente com a sua folha de respostas.
- Proibida a divulgação ou impressão parcial ou total da presente prova. **Direitos Reservados.**

LÍNGUA PORTUGUESA – QUESTÕES 01 – 12 (02 PONTOS)

TEXTO I

Desencanto

Eu faço versos como quem chora
De desalento... de desencanto...
Fecha o meu livro, se por agora
Não tens motivo nenhum de pranto.

Meu verso é sangue. Volúpia ardente...
Tristeza esparsa... remorso vão...
Dói-me nas veias. Amargo e quente,
Cai, gota a gota, do coração.

E nestes versos de angústia rouca
Assim dos lábios a vida corre,
Deixando um acre sabor na boca.

- Eu faço versos como quem morre.

BANDEIRA, Manuel. In: <https://www.escritas.org>

QUESTÃO N.º 01: Assinale a opção que apresenta uma informação **correta**:

- a) Pode-se afirmar que o texto é um poema, pois ele conta uma história.
- b) O conteúdo do texto expressa uma profunda dor do enunciador, que fala do seu sofrimento ao criar seus versos.
- c) A dor do enunciador fica um pouco mais suave no final do texto.
- d) As escolhas lexicais, ou seja, a escolha das palavras do texto não reforçam a ideia de sofrimento do enunciador.
- e) A escolha do título não contribui para reforçar o conteúdo do texto.

QUESTÃO N.º 02: Sobre aspectos linguísticos presentes no texto, assinale a alternativa **correta**:

- a) O último verso se inicia com um sinal de pontuação, o travessão, que foi empregado para introduzir uma explicação do eu lírico.
- b) As reticências empregadas nos versos servem para despertar um questionamento no leitor sobre se sofrimento do eu lírico seria verdade ou não.
- c) Na passagem “*Meu verso é sangue.*” há uma figura de linguagem denominada metáfora.
- d) A figura de linguagem presente na passagem “*Amargo e quente, / Cai, gota a gota, do coração.*” é a personificação.
- e) No verso “*Deixando um acre sabor na boca.*” o vocábulo “*acre*” apresenta um sentido positivo no contexto.

QUESTÃO N.º 03: Analise os itens abaixo e aponte a alternativa **correta**:

- a) Na segunda estrofe, as palavras que rimam “ardente”/“quente” e “vão”/“coração” pertencem, entre si, a classes gramaticais diferentes.
- b) Pode-se afirmar que a variedade linguística que sobressai no poema é a variedade coloquial.
- c) Na segunda estrofe há 3 adjetivos.
- d) Os vocábulos “*versos*”, “*angústia*”, “*rouca*” e “*Assim*” apresentam a mesma sílaba tônica: paroxítona.
- e) Observa-se o emprego da linguagem mista no poema.

QUESTÃO N.º 04: O vocábulo “*Volúpia*” apresenta o mesmo número de letras e de fonemas; assinale a alternativa em que isso também ocorre com um dos vocábulos retirados do texto:

- a) chora
- b) desalento
- c) nenhum
- d) Tristeza
- e) angústia

QUESTÃO N.º 05: O sujeito do verbo “*Caí*”, na segunda estrofe, pode ser classificado como:

- a) simples representado por “coração”.
- b) composto representado por “gota a gota”.
- c) indeterminado.
- d) simples representado por “verso”.
- e) desinencial.

QUESTÃO N.º 06: Assinale a opção com informação **correta**:

- a) Os vocábulos “Eu”, “quem”, “meu” e “nenhum” são todos pronomes pessoais.
- b) Da primeira e da terceira estrofes foram retirados estes vocábulos: “o”, “a” e “um”, que devem ser classificados todos os três como artigos.
- c) O vocábulo “remorso” está assim corretamente separado: re-mo-rso.
- d) No vocábulo “quente” há 6 fonemas.
- e) As vírgulas poderiam ser retiradas do verso “Cai, gota a gota, do coração.” sem prejuízo gramatical.

QUESTÃO N.º 07: O termo destacado na passagem “- Eu faço versos (...)” é um:

- a) predicado
- b) sujeito simples
- c) sujeito composto
- d) sujeito desinencial
- e) sujeito inexistente

QUESTÃO N.º 08: O sufixo –eza em “Tristeza” está corretamente grafado com z; da mesma forma está **correta** a grafia com z do vocábulo:

- a) sizudo
- b) somatizar
- c) analisar
- d) pesquisar
- e) catequeze

TEXTO II



Copyright © 1999 Mauricio de Sousa Produções Ltda. Todos os direitos reservados.

6066

QUESTÃO N.º 09: Sobre a tirinha acima é **correto** afirmar que:

- a) A comunicação não se realizou, pois havia a ausência de receptor da mensagem.
- b) Ocorre efeito de humor, pois a solução de ir falar pessoalmente com a Mônica garantiu, no último quadrinho, a realização da comunicação entre eles.
- c) O vocábulo “pessoalmente” fica assim correto quanto à separação de sílabas: pe-sso-al-men-te.
- d) As expressões da personagem Cebolinha, aliadas às frases interrogativas presentes nos balões, contribuem para mostrar a irritação dele com o fato de não conseguir falar com a personagem Mônica como desejava.
- e) Há três verbos na tirinha de Maurício de Sousa.

QUESTÃO N.º 10: O sujeito do verbo “É”, no terceiro quadrinho, está **corretamente** identificado em:

- a) “O jeito”
- b) “Mônica”
- c) “pessoalmente”

- d) desinencial
- e) indeterminado

TEXTO III

GARFIELD

Jim Davis



QUESTÃO N.º 11: Pode-se deduzir que as traças se suicidaram, pois:

- a) as roupas do Jon deviam ser muito feias.
- b) as roupas do Jon estavam muito organizadas no armário.
- c) elas não gostaram do tipo de tecido das roupas do Jon.
- d) havia remédio contra traças no armário.
- e) não aguentaram permanecer em um ambiente fechado por muito tempo.

QUESTÃO N.º 12: O vocábulo “suicidaram”, no terceiro quadrinho, está corretamente grafado, assim como o vocábulo da alternativa:

- a) pretencioso
- b) vulgarisar
- c) omília
- d) isenção
- e) excessão

RACIOCÍNIO LÓGICO – QUESTÕES 13 – 16 (02 PONTOS)

QUESTÃO N.º 13: A mãe de Joãozinho o mandou comprar onze latas de tinta no armazém de construção. Devido ao peso, Joãozinho só conseguiu carregar 2 latas por vez. Quantas viagens, ao armazém, Joaozinho teve de fazer?

- a) 5
- b) 5 e meia
- c) 6
- d) 6 e meia
- e) 7


QUESTÃO N.º 14: Fábio tem 16 anos e é quatro vezes mais velho que seu irmão. Quantos anos Fábio terá quando seu irmão tiver a metade da sua idade?

- a) 18
- b) 21
- c) 23
- d) 24
- e) 25

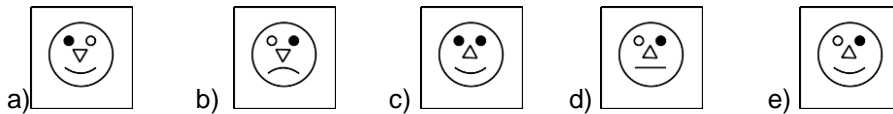
QUESTÃO N.º 15: Rearranjando as letras de “CAPIFOCI”, chega-se ao nome de um(a):

- a) Oceano
- b) Cidade
- c) País
- d) Animal
- e) Planta

QUESTÃO N.º 16: Observe o quadro a seguir.



A figura correspondente ao símbolo de interrogação é:



ATUALIDADES – QUESTÕES 17 – 20 (02 PONTOS)

QUESTÃO N.º 17: São símbolos oficiais do município de Pedra Lavrada:

- a) O Brasão, Os Munícipes e As Instâncias Naturais.
- b) O Hino, a Bandeira e A Fauna e a Flora.
- c) O Hino, O Brasão e a Bandeira.
- d) O Hino, Os Munícipes e As Riquezas Naturais.
- e) A Bandeira, A História e A Cultura.

QUESTÃO N.º 18: No Sertão Paraibano, umas das festas Juninas mais tradicionais é o:

- a) São Pedro de Condado.
- b) Brejo Paraibano.
- c) Arraiá do Cumpadre.
- d) São Pedro arrasta-pé.
- e) Cabedelo pé-de-serra.

QUESTÃO N.º 19: O Brasil registrou nesta terça (25/02/2020) o primeiro caso de coronavírus. O primeiro caso, foi registro, em qual estado brasileiro?

- a) Ceará.
- b) Minas Gerais.
- c) Rio de Janeiro.
- d) Paraná.
- e) São Paulo.

QUESTÃO N.º 20: O Departamento de Esportes de Pedra Lavrada realizou a final do 11º Ruralzão em fevereiro desse ano. Qual foi o time campeão?

- a) Botafogo (Serrote do Angico)
- b) Juventus (Cafundó).
- c) Portuguesa (Gameleira).
- d) Flamengo (Morro Redondo).
- e) Fluminense (Várzea da Cruz).

CONTEÚDO ESPECÍFICO AO CARGO – QUESTÕES 21 – 40 (03 PONTOS)

QUESTÃO N.º 21: O planejamento de uma lavanderia hospitalar depende de suas funções, complexidade de ações e aspecto:

- a) Social das instalações.
- b) Econômico das instalações.
- c) Sanitário das instalações.
- d) Produtivo das instalações.
- e) Higiênico das instalações.

QUESTÃO N.º 22: A área da lavanderia hospitalar utilizada para separação e lavagem é denominada área:

- a) Limpa.
- b) Estéril.
- c) Suja.
- d) Contaminada.
- e) Infectada.

QUESTÃO N.º 23: Num hospital geral, a troca de roupa dos leitos e dos pacientes é mais frequente, podendo-se admitir a troca diária de um lençol, o que equivale a:

- a) 1 kg/leito/dia.
- b) 2,5 kg/leito/dia.
- c) 3 kg/leito/dia.
- d) 4 kg/leito/dia.
- e) 8 kg/leito/dia.

QUESTÃO N.º 24: Ao se pensar na execução de um projeto arquitetônico de lavanderia, é necessário, primeiro, elaborar um levantamento relativo às atividades que nela serão desenvolvidas, assim como espaços indispensáveis aos seus usuários. O ponto de referência de maior importância, por ser o que vai determinar a capacidade da lavanderia é:

- a) O peso da roupa.
- b) O tipo de roupa.
- c) Os equipamentos.
- d) As instalações.
- e) O tipo de hospital.

QUESTÃO N.º 25: Leia: “O espaço físico poderá, ainda, ser condicionado pela programação dos tempos de cada operação, pelas técnicas de lavagem e medidas de eficiência. Daí, a necessidade de se conhecer esses elementos, que, de forma significativa, participam da determinação físico-espacial.”

Qual dos elementos fundamentais, da composição de uma lavanderia hospitalar, o trecho acima descreve?

- a) Fluxo de roupa.
- b) Pessoal.
- c) Equipamentos da lavanderia.
- d) Condições climáticas.
- e) Técnica de processamento.

QUESTÃO N.º 26: Pela termodesinfecção, a lavagem torna-se eficaz, na destruição dos microrganismos, se houver equilíbrio entre a temperatura e o tempo de aplicação. Para desinfecção completa deve-se usar a temperatura de:

- a) 20 a 25 ° C, durante 30 minutos.
- b) 50 a 75 ° C, durante 15 minutos.
- c) 60 a 80 ° C, durante 15 minutos.
- d) 85 a 95 ° C, durante 15 minutos.
- e) 100 a 120 ° C, durante 15 minutos.

QUESTÃO N.º 27: Equipamento é o conjunto de máquinas e aparelhos que constam da instalação da lavanderia, sem os quais se torna impossível seu funcionamento. Sobre as estimativas de utilização de roupa, a maternidade utiliza, por dia:

- a) 2,5 kg / leito / dia.

- b) 4 kg / leito / dia.
- c) 6 kg / leito / dia.
- d) 8 kg / leito / dia.
- e) 11,5 kg / leito / dia.

QUESTÃO N.º 28: A lavadora que combina o processo de lavagem com a centrifugação e o acondicionamento é denominada:

- a) Convencional com controle manual.
- b) Convencional com controle automático.
- c) Lavadora convencional simples.
- d) Lavadora ultrassônica.
- e) Lavadora-extratora.

QUESTÃO N.º 29: Existem máquinas de lavar de diversas capacidades, sendo, mais comumente, adotadas, em nossos hospitais, as de:

- a) 8 e 10 quilos.
- b) 15 e 20 quilos.
- c) 25 e 30 quilos.
- d) 50 e 100 quilos.
- e) 250 e 400 quilos.

QUESTÃO N.º 30: A máquina usada para eliminar ou extrair até 40% da água da roupa saída da lavadora é denominada:

- a) Lavadora contínua.
- b) Lavadora fixa.
- c) Termológica.
- d) Marcadora.
- e) Centrífuga.

QUESTÃO N.º 31: Sobre os equipamentos dos serviços de lavanderia, considere a alternativa que descreve, **corretamente**, uma Calandra:

- a) Equipamento que se destina a secar e passar a roupa, ao mesmo tempo.
- b) Equipamento que se destina a evitar o aparecimento de aspecto envelhecido nas roupas.
- c) Equipamento utilizado, exclusivamente, para secagem das roupas.
- d) Equipamento utilizado para aquecimento da água, antes da lavagem.
- e) Equipamento destinado a eliminação de impurezas da roupa, por depuração antisséptica.

QUESTÃO N.º 32: O equipamento destinado a passar roupa pessoal, consta de uma mesa de tela metálica, revestida de feltro e de algodão, onde é estendida a roupa, denomina-se:

- a) Prensa.
- b) Ferro elétrico.
- c) Balança.
- d) Balaio.
- e) Cilindro.

QUESTÃO N.º 33: São considerados produtos de lavagem de roupas, **exceto**:

- a) Alvejante.
- b) Acidulante.
- c) Branqueador.
- d) Desinfetante.
- e) Sabão.

QUESTÃO N.º 34: A quantidade de roupa necessária, no hospital, varia de 4 a 6 mudas, dependendo de cinco fatores, dos quais não se inclui:

- a) Frequência de troca.
- b) Horário de funcionamento da rouparia central.
- c) Regime de trabalho da lavandeira.
- d) Tipo de estocagem da lavanderia.
- e) Sistema de controle / distribuição utilizado.

QUESTÃO N.º 35: De acordo com o Ministério da Saúde, para os berçários de pediatria e maternidade os suprimentos de roupa devem incluir, aproximadamente:

- a) 10 fraldas/berço/dia.
- b) 15 fraldas/berço/dia.
- c) 20 fraldas/berço/dia.
- d) 25 fraldas/berço/dia.
- e) 30 fraldas/berço/dia.

QUESTÃO N.º 36: A padronização da roupa hospitalar é necessária para facilitar e reduzir os custos de sua operacionalização e ou processamento. Sobre esse processo, leia os itens abaixo:

I - A roupa utilizada, no hospital, é, preferentemente, branca, para facilitar sua lavagem e desinfecção.

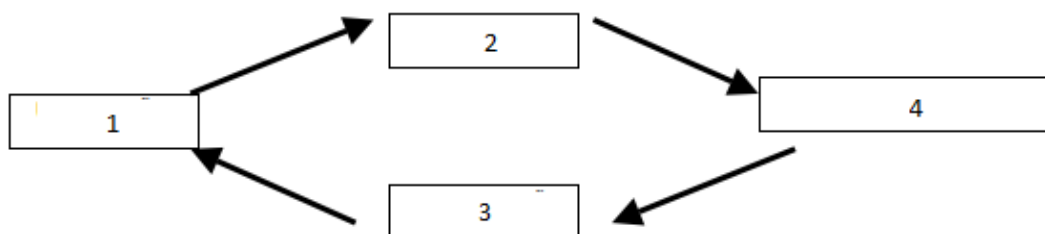
II - Tecidos de cores diversas são adotados para identificação da roupa de serviços específicos, evitando ser misturada com o restante.

III - Dos tipos de tecidos existentes para a confecção de roupa, os mais utilizados em hospital são algodão e poliéster / algodão.

Está **correto** o que se afirma em:

- a) I, apenas.
- b) I e II, apenas.
- c) III, apenas.
- d) II e III, apenas.
- e) I, II e III.

QUESTÃO N.º 37: Observe a imagem abaixo:



A operacionalização eficiente da lavanderia depende de alguns fatores precedentes desta fase, como por exemplo uma boa organização, uma chefia competente, um programa efetivo de treinamento em serviço e a adoção de sistemas adequados de incentivos. Sobre a operacionalização, com base na imagem acima, podemos afirmar que:

- a) 1 – representa o processamento, 2 – representa a distribuição, 3 – representa a coleta, 4 – representa a utilização.
- b) 1 – representa o processamento, 3 – representa a distribuição, 2 – representa a coleta, 4 – representa a utilização.
- c) 4 – representa o processamento, 3 – representa a distribuição, 2 – representa a coleta, 1 – representa a utilização.
- d) 4 – representa o processamento, 2 – representa a distribuição, 3 – representa a coleta, 1 – representa a utilização.
- e) 4 – representa o processamento, 1 – representa a distribuição, 3 – representa a coleta, 2 – representa a utilização.

QUESTÃO N.º 38: Após a coleta da roupa suja, esta deve passar, respectivamente, por 4 etapas, sendo elas:

- a) Recepção, Separação, Identificação, Pesagem.

- b) Recepção, Separação, Pesagem, Identificação.
- c) Separação, Pesagem, Identificação, Recepção.
- d) Separação, Identificação, Pesagem, Recepção.
- e) Pesagem, Identificação, Separação, Recepção.

QUESTÃO N.º 39: Os sacos de roupa suja são pesados e o resultado do peso é registrado em impresso próprio, para o controle de custos das diversas unidades, na área de:

- a) Recepção.
- b) Separação.
- c) Identificação.
- d) Segregação.
- e) Agrupamento.

QUESTÃO N.º 40: No ciclo para lavagem de roupa com sujidade pesada, a primeira etapa realizada é:

- a) Primeiro enxágue.
- b) Pré-lavagem.
- c) Desinfecção.
- d) Acidulação.
- e) Umectação.