



CONCURSO PÚBLICO - PROVA OBJETIVA

ASSINATURA DO(A) CANDIDATO

Nº DE INSCRIÇÃO

CONTEMAX

CONSULTORIA TÉCNICA E PLANEJAMENTO LTDA

CONCURSO PÚBLICO DO MUNICÍPIO DE PEDRA LAVRADA

N.º 001/2020

CARGO: AUXILIAR ADMINISTRATIVO

INSTRUÇÕES:

VERIFIQUE SE ESTE CADERNO:

- Corresponde a sua opção de cargo.
- Contém 40 (quarenta) questões, numeradas de 01 a 40, caso contrário reclame ao fiscal da sala outro caderno. **NÃO** serão aceitas reclamações posteriores.
- Para cada questão existe apenas **UMA** resposta certa.
- Você deve ler cuidadosamente cada uma das questões e escolher a resposta certa.
- A alternativa escolhida deve ser marcada na **FOLHA DE RESPOSTAS** que você recebeu.

VOCÊ DEVE:

- Procurar na **FOLHA DE RESPOSTAS**, o número da questão que você está respondendo.
- Verificar no caderno de prova qual a letra (A, B, C, D, E) da resposta que você escolheu.
- Marcar essa letra na **FOLHA DE RESPOSTAS**, conforme o exemplo: [■].

ATENÇÃO:

- Marque as respostas com caneta esferográfica azul ou preta.
- Marque apenas uma letra para cada questão, mais de uma letra assinalada implicará nota zero à questão.
- Não será permitida qualquer espécie de consulta, nem o uso de máquina calculadora.
- Você terá 3 (três) horas para responder a todas as questões e preencher a folha de respostas.
- Devolva esse caderno de prova ao aplicador, juntamente com a sua folha de respostas.
- Proibida a divulgação ou impressão parcial ou total da presente prova. **Direitos Reservados.**

LÍNGUA PORTUGUESA – QUESTÕES 01 – 12 (02 PONTOS)

TEXTO I

Desencanto

Eu faço versos como quem chora
De desalento... de desencanto...
Fecha o meu livro, se por agora
Não tens motivo nenhum de pranto.

Meu verso é sangue. Volúpia ardente...
Tristeza esparsa... remorso vão...
Dói-me nas veias. Amargo e quente,
Cai, gota a gota, do coração.

E nestes versos de angústia rouca
Assim dos lábios a vida corre,
Deixando um acre sabor na boca.

- Eu faço versos como quem morre.

BANDEIRA, Manuel. In: <https://www.escritas.org>

QUESTÃO N.º 01: Assinale a opção que apresenta uma informação **correta**:

- a) Pode-se afirmar que o texto é um poema, pois ele conta uma história.
- b) O conteúdo do texto expressa uma profunda dor do enunciador, que fala do seu sofrimento ao criar seus versos.
- c) A dor do enunciador fica um pouco mais suave no final do texto.
- d) As escolhas lexicais, ou seja, a escolha das palavras do texto não reforçam a ideia de sofrimento do enunciador.
- e) A escolha do título não contribui para reforçar o conteúdo do texto.

QUESTÃO N.º 02: Sobre aspectos linguísticos presentes no texto, assinale a alternativa **correta**:

- a) O último verso se inicia com um sinal de pontuação, o travessão, que foi empregado para introduzir uma explicação do eu lírico.
- b) As reticências empregadas nos versos servem para despertar um questionamento no leitor sobre se sofrimento do eu lírico seria verdade ou não.
- c) Na passagem "*Meu verso é sangue.*" há uma figura de linguagem denominada metáfora.
- d) A figura de linguagem presente na passagem "*Amargo e quente, / Cai, gota a gota, do coração.*" é a personificação.
- e) No verso "*Deixando um acre sabor na boca.*" o vocábulo "*acre*" apresenta um sentido positivo no contexto.

QUESTÃO N.º 03: Analise os itens abaixo e aponte a alternativa **correta**:

- a) Na segunda estrofe, as palavras que rimam "*ardente*"/"*quente*" e "*vão*"/"*coração*" pertencem, entre si, a classes gramaticais diferentes.
- b) Pode-se afirmar que a variedade linguística que sobressai no poema é a variedade coloquial.
- c) Na segunda estrofe há 3 adjetivos.
- d) Os vocábulos "*versos*", "*angústia*", "*rouca*" e "*Assim*" apresentam a mesma sílaba tônica: paroxítona.
- e) Observa-se o emprego da linguagem mista no poema.

QUESTÃO N.º 04: O vocábulo "*Volúpia*" apresenta o mesmo número de letras e de fonemas; assinale a alternativa em que isso também ocorre com um dos vocábulos retirados do texto:

- a) chora
- b) desalento
- c) nenhum
- d) Tristeza
- e) angústia

QUESTÃO N.º 05: O sujeito do verbo "*Caí*", na segunda estrofe, pode ser classificado como:

- a) simples representado por “coração”.
- b) composto representado por “gota a gota”.
- c) indeterminado.
- d) simples representado por “verso”.
- e) desinencial.

QUESTÃO N.º 06: Assinale a opção com informação **correta**:

- a) Os vocábulos “Eu”, “quem”, “meu” e “nenhum” são todos pronomes pessoais.
- b) Da primeira e da terceira estrofes foram retirados estes vocábulos: “o”, “a” e “um”, que devem ser classificados todos os três como artigos.
- c) O vocábulo “remorso” está assim corretamente separado: re-mo-rso.
- d) No vocábulo “quente” há 6 fonemas.
- e) As vírgulas poderiam ser retiradas do verso “Cai, gota a gota, do coração.” sem prejuízo gramatical.

QUESTÃO N.º 07: O termo destacado na passagem “- Eu faço versos (...)” é um:

- a) predicado
- b) sujeito simples
- c) sujeito composto
- d) sujeito desinencial
- e) sujeito inexistente

QUESTÃO N.º 08: O sufixo –eza em “Tristeza” está corretamente grafado com z; da mesma forma está **correta** a grafia com z do vocábulo:

- a) sizudo
- b) somatizar
- c) analisar
- d) pesquisar
- e) catequeze

TEXTO II



Copyright © 1999 Mauricio de Sousa Produções Ltda. Todos os direitos reservados.

6066

QUESTÃO N.º 09: Sobre a tirinha acima é **correto** afirmar que:

- a) A comunicação não se realizou, pois havia a ausência de receptor da mensagem.
- b) Ocorre efeito de humor, pois a solução de ir falar pessoalmente com a Mônica garantiu, no último quadrinho, a realização da comunicação entre eles.
- c) O vocábulo “pessoalmente” fica assim correto quanto à separação de sílabas: pe-sso-al-men-te.
- d) As expressões da personagem Cebolinha, aliadas às frases interrogativas presentes nos balões, contribuem para mostrar a irritação dele com o fato de não conseguir falar com a personagem Mônica como desejava.
- e) Há três verbos na tirinha de Maurício de Sousa.

QUESTÃO N.º 10: O sujeito do verbo “É”, no terceiro quadrinho, está **corretamente** identificado em:

- a) “O jeito”
- b) “Mônica”
- c) “pessoalmente”

- d) desinencial
- e) indeterminado

TEXTO III

GARFIELD

Jim Davis



QUESTÃO N.º 11: Pode-se deduzir que as traças se suicidaram, pois:

- a) as roupas do Jon deviam ser muito feias.
- b) as roupas do Jon estavam muito organizadas no armário.
- c) elas não gostaram do tipo de tecido das roupas do Jon.
- d) havia remédio contra traças no armário.
- e) não aguentaram permanecer em um ambiente fechado por muito tempo.

QUESTÃO N.º 12: O vocábulo “suicidaram”, no terceiro quadrinho, está corretamente grafado, assim como o vocábulo da alternativa:

- a) pretencioso
- b) vulgarisar
- c) omília
- d) isenção
- e) excessão

RACIOCÍNIO LÓGICO – QUESTÕES 13 – 16 (02 PONTOS)

QUESTÃO N.º 13: A mãe de Joãozinho o mandou comprar onze latas de tinta no armazém de construção. Devido ao peso, Joãozinho só conseguiu carregar 2 latas por vez. Quantas viagens, ao armazém, Joaozinho teve de fazer?

- a) 5
- b) 5 e meia
- c) 6
- d) 6 e meia
- e) 7


QUESTÃO N.º 14: Fábio tem 16 anos e é quatro vezes mais velho que seu irmão. Quantos anos Fábio terá quando seu irmão tiver a metade da sua idade?

- a) 18
- b) 21
- c) 23
- d) 24
- e) 25

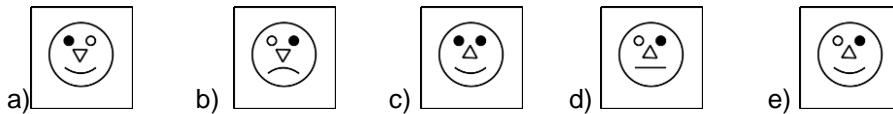
QUESTÃO N.º 15: Rearranjando as letras de “CAPIFOCI”, chega-se ao nome de um(a):

- a) Oceano
- b) Cidade
- c) País
- d) Animal
- e) Planta

QUESTÃO N.º 16: Observe o quadro a seguir.



A figura correspondente ao símbolo de interrogação é:



ATUALIDADES – QUESTÕES 17 – 20 (02 PONTOS)

QUESTÃO N.º 17: São símbolos oficiais do município de Pedra Lavrada:

- a) O Brasão, Os Munícipes e As Instâncias Naturais.
- b) O Hino, a Bandeira e A Fauna e a Flora.
- c) O Hino, O Brasão e a Bandeira.
- d) O Hino, Os Munícipes e As Riquezas Naturais.
- e) A Bandeira, A História e A Cultura.

QUESTÃO N.º 18: No Sertão Paraibano, umas das festas Juninas mais tradicionais é o:

- a) São Pedro de Condado.
- b) Brejo Paraibano.
- c) Arraiá do Cumpadre.
- d) São Pedro arrasta-pé.
- e) Cabedelo pé-de-serra.

QUESTÃO N.º 19: O Brasil registrou nesta terça (25/02/2020) o primeiro caso de coronavírus. O primeiro caso, foi registro, em qual estado brasileiro?

- a) Ceará.
- b) Minas Gerais.
- c) Rio de Janeiro.
- d) Paraná.
- e) São Paulo.

QUESTÃO N.º 20: O Departamento de Esportes de Pedra Lavrada realizou a final do 11º Ruralzão em fevereiro desse ano. Qual foi o time campeão?

- a) Botafogo (Serrote do Angico)
- b) Juventus (Cafundó).
- c) Portuguesa (Gameleira).
- d) Flamengo (Morro Redondo).
- e) Fluminense (Várzea da Cruz).

CONTEÚDO ESPECÍFICO AO CARGO – QUESTÕES 21 – 40 (03 PONTOS)

QUESTÃO N.º 21: Considere o texto abaixo e marque a alternativa **correta**.

A REVISÃO 2019 DA ONU PARA AS PROJEÇÕES POPULACIONAIS DO BRASIL

Em meados do século XX, o **Brasil** tinha **altas taxas de mortalidade** e natalidade, uma estrutura etária muito rejuvenescida e altas taxas de crescimento natural. No final do século XXI, o **Brasil** terá **baixas taxas de mortalidade** e natalidade, uma estrutura etária muito envelhecida e decrescimento populacional. Esta nova configuração demográfica vai requerer que as políticas econômicas e sociais se adaptem à nova realidade populacional", escreve José Eustáquio Diniz Alves, doutor em demografia e professor titular do mestrado e doutorado em População, Território e Estatísticas Públicas da Escola Nacional de Ciências Estatísticas – ENCE/IBGE, em artigo publicado por Eco Debate, em junho de 2019. Disponível em < <http://www.ihu.unisinos.br>>Acesso/fev-2020.

Segundo o IBGE, a região com a menor mortalidade infantil é a:

- a) Região Nordeste.
- b) Região Norte.
- c) Região Sudeste.
- d) Região Sul.
- e) Região Centro Oeste.

QUESTÃO N.º22: Considere os itens, colocando (V) ou (F) nos parênteses se caso for verdadeiro ou falso, respectivamente.

Nas regiões brasileiras, o Relevo é constituído predominantemente por planaltos, planícies e depressões, embora outros conjuntos, como serras, chapadas e tabuleiros, também possam ser observados. Nos estados da Região Nordeste, o Relevo também é diretamente afetado por outros aspectos ambientais, como:

- () a cobertura vegetal.
- () os tipos de solo
- () os tipos de rocha.
- () o clima.

A sequência correta é:

- a) V – F – F – F
- b) V – V – F – V
- c) V – F – F – V
- d) F – F – F – F
- e) V – V – V – V

QUESTÃO N.º 23: Sobre o clima litorâneo úmido brasileiro, julgue as afirmativas abaixo e marque a alternativa incorreta:

I- Abrange todo o Território brasileiro;

II- As características principais são: Índice pluviométrico baixo (média de 600 mm anual) e Verão com poucas chuvas.

III- A temperatura média anual do clima litorâneo úmido brasileiro é de 35°C, com uma variação térmica alta.

Está(ão) incorreta(s)

- a) Apenas a afirmativa I.
- b) Apenas a afirmativa II.
- c) Apenas as afirmativas I e II.
- d) Apenas as afirmativas II e III.
- e) As afirmativas I, II e III.

QUESTÃO N.º 24: A atual divisão política e administrativa do Brasil data de 1988, quando foi promulgada a Constituição vigente. De acordo com ela, o território brasileiro é composto por 26 estados e um Distrito Federal.

No Brasil, as siglas: **1-(MT)**; **2-(AP)** e **3-(RO)** correspondem aos estados do:

- a) 1- Mato Grosso; 2- Pará; 3- Roraima.
- b) 1- Mato Grosso do Sul; 2- Amapá; 3- Rondônia.
- c) 1- Maranhão; 2- Acre; 3- Roraima.
- d) 1- Mato Grosso; 2- Amapá; 3- Rondônia.
- e) Nenhuma das alternativas acima.

QUESTÃO N.º 25: Com relação à Urbanização nas regiões brasileiras, julgue as afirmativas abaixo e marque a alternativa **INCORRETA**:



I- De acordo com o Instituto Brasileiro de Geografia e Estatística–IBGE, com base no último censo demográfico, o Brasil tem em todas as regiões brasileiras aproximadamente 70% da população vivendo no meio rural;

II- As grandes cidades brasileiras cresceram de forma acelerada e desordenada, com ocupações de áreas de risco, avanço sobre fundos de vales e rios e uma série de modificações no ambiente natural.

III - O processo de urbanização brasileiro fraquejou no tocante a infraestrutura da maioria das cidades, sobretudo as localizadas no Sudeste – região mais habitada - a exemplo de Belo Horizonte, São Paulo e Rio de Janeiro.

Está(ão) incorreta(s) :

- a) As afirmativas I, II e III.
- b) Apenas a afirmativa I.
- c) Apenas a afirmativa II.
- d) Apenas as afirmativas I e III.
- e) Apenas as afirmativas II e III.

QUESTÃO N.º 26: Leia o texto abaixo, julgue as afirmativas e marque a alternativa **correta**:

O grau de sofisticação do setor secundário e terciário de uma cidade, aliado ao contingente populacional, acaba determinando cidades que polarizam (influenciam) outras. Logo, existe uma Hierarquia Urbana. Um dos exemplos na hierarquia urbana são as **Metrópoles Regionais** que constituem o segundo nível da gestão territorial e exercem influência na macrorregião onde se encontram.

São metrópoles regionais brasileiras:

- I- Aracaju;
- II- Goiânia;
- III- Belém;
- IV- Curitiba.

Está(ão) correta(s)

- a) Apenas as afirmativas I, III e IV.
- b) Apenas as afirmativas II, III e IV.
- c) Apenas as afirmativas II e IV.
- d) Nenhuma das afirmativas.
- e) Todas as afirmativas.

QUESTÃO N.º 27: Considere os itens, colocando (V) ou (F) nos parênteses se caso for **verdadeiro ou falso**, respectivamente sobre o estado do **AMAZONAS**:

- (___) Em área territorial é o menor estado brasileiro.
- (___) Estão localizados os pontos mais elevados do país, como a planície do rio Amazonas e Alto Solimões.
- (___) O clima da região é o equatorial úmido.
- (___) Os principais problemas ambientais enfrentados são: Desmatamento e Poluição de rios;

A sequência **correta é:**

- a) F – F – F – V
- b) F – V – V – V
- c) F – F – V – V
- d) F – F – F – F
- e) V – V – V – V

QUESTÃO N.º 28: Marque a alternativa **correta**. A **Densidade Demográfica** corresponde à distribuição da população em uma determinada área. Também chamado de densidade populacional ou população relativa, esse índice demográfico representa, portanto, uma média entre a área de um determinado lugar e o total de habitantes que nela se encontram. **A Região brasileira com a menor densidade demográfica é a região:**

- a) Sul.
- b) Sudeste.
- c) Norte.
- d) Centro Oeste.
- e) Nordeste.

QUESTÃO N.º 29: Sobre as características do CLIMA SEMIÁRIDO, julgue as afirmativas abaixo e marque a alternativa **correta**:


I- O clima semiárido é seco e quente;

II- As chuvas são distribuídas uniformemente na região de clima semiárido. Tem áreas que a presença de chuvas é semanal durante o ano.

III - A caatinga é o bioma típico da região de clima semiárido no Brasil.

Está(ão) correta(s)

- a) As afirmativas I, II e III.
- b) Apenas a afirmativa I.
- c) Apenas a afirmativa II.
- d) Apenas as afirmativas I e III.
- e) Apenas as afirmativas II e III.



QUESTÃO N.º 30: Considere os itens, colocando **(V)** ou **(F)** nos parênteses se caso for verdadeiro ou falso, respectivamente.

A Região Nordeste é a terceira maior região do Brasil e a maior em número de estados, possui nove: Alagoas, Bahia, Ceará, Maranhão, Paraíba, Pernambuco, Piauí, Rio Grande do Norte e Sergipe.

A Região Nordeste é dividida, em função de fatores naturais e econômicos, em:

- (___) Meio-Norte;
- (___) Sertão;
- (___) Agreste;
- (___) Zona da Mata.

A sequência correta é:

- a) V – V – V – V
- b) F – V – V – V
- c) F – V – V – F
- d) F – F – V – V
- e) V – V – F – V

QUESTÃO N.º 31: Considere os itens, colocando **(V)** ou **(F)** nos parênteses se caso for **verdadeiro ou falso**, respectivamente.

Durante o governo Fernando Henrique Cardoso - FHC ocorreram diversas privatizações de empresas públicas. Elas ocorreram, principalmente, nos setores de:

- (___) Telecomunicação
- (___) Energia
- (___) Mineração

A sequência correta é:

- a) V – V – V
- b) V – V – F
- c) F – V – V
- d) F – V – F
- e) V – F – F

QUESTÃO N.º 32: Assinale a alternativa que completa **corretamente** o espaço em branco:

O _____ foi uma das políticas mais polêmicas e populares do governo de Luiz Inácio Lula da Silva. Pretendia de uma só vez atacar dois problemas estruturais do sistema de ensino superior, de um lado, a barreira socioeconômica que praticamente interditava a inclusão das camadas mais desfavorecidas no sistema, de outro o problema do enquadramento fiscal das instituições filantrópicas e sem fins lucrativos.

- a) Bolsa Família.
- b) Fome Zero.
- c) PROUNI (Programa Universidade para Todos).
- d) Programa Amigos da Escola – PAE.
- e) Nenhuma das alternativas acima.

QUESTÃO N.º 33: Julgue as afirmativas abaixo e marque a alternativa **correta** com relação ao Golpe de 1964.

- I- Os meios de comunicação e as manifestações artísticas não foram reprimidos pela censura nesse período.
- II- O desenvolvimento da articulação direitista que resultou no golpe se intensificou no início de 1964, contando com o decisivo recurso financeiro de empresários nacionais e estrangeiros, da CIA e da embaixada dos EUA.
- III- O Alto Comando das Forças Armadas passou a controlar a sucessão presidencial, indicando um candidato militar que era referendado pelo Congresso Nacional.

Está(ão) correta(s)

- a) As afirmativas I, II e III.
- b) Apenas a afirmativa I.
- c) Apenas a afirmativa II.
- d) Apenas as afirmativas I e III.
- e) Apenas as afirmativas II e III.

QUESTÃO N.º 34: Sobre Getúlio Vargas, analise as afirmativas abaixo e marque a alternativa **CORRETA**.

- I- Vargas instituiu o salário mínimo e a Consolidação das Leis do Trabalho, também conhecida por CLT.
- II- Durante seu governo, enfrentou o fim do chamado "milagre brasileiro", com a redução do crescimento econômico, alta da inflação e da guerra civil.
- III- Sua forma de governo foi democrática com aprovação de uma nova constituinte, renunciando após sofrer pressão de "forças militares e partidos adversários"

Está(ão) correta(s)

- a) As afirmativas I, II e III.
- b) Apenas a afirmativa I.
- c) Apenas a afirmativa II.
- d) Apenas as afirmativas I e III.
- e) Apenas as afirmativas II e III.

QUESTÃO N.º 35: Assinale a alternativa que completa **corretamente** o espaço em branco:



Um dos grandes destaques do governo de Itamar Franco foi o _____ processo de estabilização econômica iniciado em 1993. Surgiu de uma conjuntura de descontrole da inflação que já durava praticamente trinta anos.

- a) Plano Cruzado.
- b) Plano Bresser.
- c) Plano Cruzeiro Novo.
- d) Plano Real.
- e) Nenhuma das alternativas acima

36. Sobre o mandato e a Política no governo de João Baptista Figueiredo, julgue as afirmativas abaixo e marque a alternativa **correta**:

- I- No seu mandato houve a transição do regime democrático para o regime militar ditatorial;
- II- Reforma partidária com o início do bipartidarismo (ARENA e MDB). Proibição de novos partidos políticos;
- III- Retorno das eleições diretas para governadores de estados em 1982.

Está(ão) correta(s)

- a) Apenas a afirmativa I.
- b) Apenas a afirmativa II.
- c) Apenas a afirmativa III
- d) Apenas as afirmativas I e II.
- e) As afirmativas I, II e III.

QUESTÃO N.º 37: Assinale a alternativa que completa corretamente o espaço em branco:

O Presidente _____ Usou uma plataforma nacional desenvolvimentista, “**O Plano de Metas**”, onde permitiu a abertura da economia brasileira ao capital estrangeiro. Promoveu a expansão da indústria pesada, a construção de usinas siderúrgicas e de grandes usinas hidrelétricas e a implantação da indústria automobilística, com a vinda de fábricas de automóveis para o Brasil. **Esse Presidente foi:**

- a) Getúlio Vargas.
- b) Castelo Branco.
- c) Juscelino Kubitschek.
- d) João Figueiredo.
- e) João Goulart.

QUESTÃO N.º 38: Considere a charge abaixo, julgue as afirmativas e marque a alternativa **INCORRETA**.



charge-caricatura-e-politica – fonte: <http://www.revistahcsm.coc.fiocruz.br>

Com relação à revolução de 1930 é INCORRETO afirmar:

- I- Foi uma aliança de Estado que permitiu a eleição do presidente Washington Luís, no mês de outubro de 1930.
- II- O movimento foi articulado pelos Deputados Federais e Senadores eleitos em 1930, permitindo a posse do presidente da câmara Júlio Prestes, sob alegação de fraude eleitoral.
- III- A Revolução de 1930 se deu a partir do crescimento e acordo da política do café-com-leite e da vontade de setores do Exército de instaurar a ditadura no país.

Está(ão) incorreta(s)

- a) As afirmativas I, II e III.
- b) Apenas a afirmativa III.
- c) Apenas a afirmativa II.
- d) Apenas a afirmativa I.
- e) Apenas as afirmativas II e III.

QUESTÃO N.º 39: Com relação ao primeiro e segundo mandatos da ex-presidente Dilma Rousseff, considere os itens, colocando **(V)** ou **(F)** nos parênteses se caso for **verdadeiro** ou **falso**, respectivamente.

- () Foi à primeira mulher a fazer o discurso de abertura da Assembleia Geral da ONU.
- () Centenas de milhares de manifestantes foram às ruas em todo país dando apoio total a Dilma por não criticar a corrupção e por evitar gastos com a Copa do Mundo com o dinheiro público.
- () A popularidade da presidente Dilma aumentou no seu segundo mandato, com os efeitos da situação econômica e do pacto federativo com os deputados federais e senadores até o fim do seu mandato no final de 2018.

A sequência correta é:

- a) F – F – F
- b) V – V – F
- c) F – V – V
- d) F – V – F
- e) V – F – F

QUESTÃO N.º 40: Leia o texto abaixo, julgue as afirmativas e marque a alternativa **correta**.

Uma das promessas do Presidente Jair Messias Bolsonaro era de reduzir o número de **ministérios**. A redução de fato ocorreu por meio de diversas mudanças nos ministérios que existiam — alguns foram agrupados em um só, outros simplesmente deixaram de existir.

A maior fusão ministerial, no início de seu governo, se deu na área da economia, sob responsabilidade de:

- a) Sergio Moro.
- b) Olavo de Carvalho.
- c) Paulo Guedes.
- d) Ricardo Sales.
- e) Nenhuma das alternativas acima.