



CONCURSO PÚBLICO - PROVA OBJETIVA

ASSINATURA DO(A) CANDIDATO

Nº DE INSCRIÇÃO

CONTEMAX

CONSULTORIA TÉCNICA E PLANEJAMENTO LTDA

PREFEITURA MUNICIPAL DE MATARACA

CARGO: MOTORISTA

INSTRUÇÕES:

VERIFIQUE SE ESTE CADERNO:

- Corresponde a sua opção de cargo.
- Contém 40 (quarenta) questões, numeradas de 01 a 40, caso contrário reclame ao fiscal da sala outro caderno. **NÃO** serão aceitas reclamações posteriores.
- Para cada questão existe apenas **UMA** resposta certa.
- Você deve ler cuidadosamente cada uma das questões e escolher a resposta certa.
- A alternativa escolhida deve ser marcada na **FOLHA DE RESPOSTAS** que você recebeu.

VOCÊ DEVE:

- Procurar na **FOLHA DE RESPOSTAS**, o número da questão que você está respondendo.
- Verificar no caderno de prova qual a letra (A, B, C, D, E) da resposta que você escolheu.
- Marcar essa letra na **FOLHA DE RESPOSTAS**, conforme o exemplo: [■].

ATENÇÃO:

- Marque as respostas com caneta esferográfica azul ou preta.
- Marque apenas uma letra para cada questão, mais de uma letra assinalada implicará nota zero à questão.
- Não será permitida qualquer espécie de consulta, nem o uso de máquina calculadora.
- Você terá 3 (três) horas para responder a todas as questões e preencher a folha de respostas.
- Devolva esse caderno de prova ao aplicador, juntamente com a sua folha de respostas.
- Proibida a divulgação ou impressão parcial ou total da presente prova. **Direitos Reservados.**

**QUESTÕES - LÍNGUA PORTUGUESA (1 – 12)
02 PONTOS****TEXTO I
EU VEJO UMA GRAVURA**

Eu vejo uma gravura
grande e rasa.
No primeiro plano
Uma casa.
À direita da casa
outra casa.
À esquerda da casa
outra casa.
Lá no fundo da casa
outra casa.
Em frente da casa
uma vala:
onde escorre a lama
doutra casa.

E no chão da casa
outra vala:
onde escorre o esgoto
doutra casa.
Esta casa que eu vejo
não se casa
com o que chamamos
uma casa.
Pois as paredes são
Esburacadas
onde passam aranhas
e baratas.

E os telhados são
folhas de zinco.
E podem cair
a qualquer vento.
E matar a mulher
que mora dentro.
E matar a criança
que está dentro
da mulher que mora
nessa casa.
Ou da mulher que mora
noutra casa.

É preciso pintar
outra gravura
com casas de argamassa
na paisagem.

Crianças cantando
a segurança

da vida construída
à sua imagem.

JOANA EM FLOR, Reynaldo Jardim.

01. Tendo em vista o contexto do poema, nestes versos “*Esta casa que eu vejo / não se casa / com o que chamamos / uma casa. / Pois as paredes são / Esburacadas / onde passam aranhas / e baratas.*” pode-se perceber que fica revelado um sentimento do eu lírico. Esse sentimento é de:

- a) raiva
- b) indignação
- c) nostalgia
- d) esperança
- e) sarcasmo

02. Textos como o acima apresentam caráter poético, pois podem ser considerados pertencentes ao gênero lírico, que, geralmente, utilizam uma linguagem carregada de subjetividade e emotividade. No entanto, no poema de Reynaldo Jardim, observa-se, pelas escolhas linguísticas do poeta, o predomínio de um determinado recurso de linguagem que se distancia, até certo ponto, da subjetividade comum aos poemas. Tal recurso está **corretamente** indicado na opção:

- a) referencialidade, destacando elementos da realidade.
- b) personificação de elementos do cotidiano.
- c) interpelação ao leitor.
- d) objetividade observada no uso da 3ª pessoa do discurso.
- e) completa neutralidade do emissor.

03. Ao lado do aspecto lírico do poema, destacam-se características de uma determinada tipologia textual; tal tipologia está corretamente apontada na alternativa:

- a) narrativa
- b) descritiva
- c) injuntiva
- d) epistolar
- e) expositiva

04. A linguagem do poema organiza-se de forma a chamar a atenção sobre si. Para esse fim, as figuras de linguagem cumprem um papel importante. Na 1ª estrofe, sobressai uma delas, que está corretamente indicada na opção:

- a) metáfora
- b) antítese
- c) eufemismo

- d) metonímia
e) elipse

05. Dentre as diversas estratégias discursivas, pode-se destacar o uso de conectivos lógicos para estabelecer a coesão e a coerência do texto, promovendo, dentre outras funções, a progressão textual. Nos versos “*Esta casa que eu vejo / não se casa / com o que chamamos / uma casa. / Pois as paredes são / Esburacadas / onde passam aranhas / e baratas.*”, encontra-se um exemplo desse mecanismo de coesão com o uso de uma conjunção. Trata-se do vocábulo:

- a) esta
b) que
c) uma
d) pois
e) onde

06. Pode-se perceber ao longo do poema a recorrência do vocábulo “outra”; essa repetição, nesse poema *Eu Vejo uma Gravura*, contribui para criar uma imagem de:

- a) insulamento

- b) organização
c) aversão
d) aglomerado
e) perfeccionismo

07. Em relação à organização sintática do poema, na 2ª estrofe, os períodos apresentam-se como:

- a) compostos por coordenação, principalmente.
b) simples, em sua maioria.
c) compostos por subordinação, principalmente.
d) compostos por coordenação e subordinação, igualmente.
e) compostos por coordenação, apenas.

08. A palavra “*construída*” é acentuada de acordo com determinada regra; a palavra que atende à mesma regra de acentuação está corretamente apontada na opção:

- a) ídiche
b) biquíni
c) substituí-lo
d) ravióli
e) herói

TEXTO II



QUINO, J. L. Toda Mafalda. São Paulo: Martins Fontes, 2003

09. O recurso estilístico presente na fala de Mafalda, no 2º quadrinho, está corretamente apontado na opção:

- a) comparação
b) metáfora
c) metonímia
d) hipérbole
e) gradação

10. No 2º quadrinho, há um problema gramatical. Esse problema é de ordem:

- a) sintática, quanto à pontuação.
b) morfológica, quanto à flexão verbal.
c) sintática, quanto à regência.
d) coesiva.
e) morfológica, quanto à flexão nominal.

11. No último quadrinho, a colocação do pronome em “*Era só escondê-los!*” está inadequada gramaticalmente; o mesmo ocorre em:

- a) Quando se sentiu em dificuldade, pediu ajuda.
b) Não devo dar-lhe mais explicações.
c) Nada me convenceria a trair meus princípios.

d) O contrato dar-se-ia por força das novas demandas de trabalho.


e) Se apresentar-lhe os pêsames, faça-o discretamente.

12. O vocábulo “bem-estar”, no 3º quadrinho, está corretamente grafado com hífen. Assinale a alternativa em que há um vocábulo também corretamente grafado:

- a) auto-escola
- b) hiper-sensibilidade
- c) inter-relação
- d) co-herdeiro
- e) infra-estrutura

QUESTÕES - RACIOCÍNIO LÓGICO (13 – 16)
02 PONTOS


13. Observe as três balanças



Quantos quilogramas pesa o mamão?

- a) 650 gramas
- b) 415 gramas
- c) 1065 gramas
- d) 895 gramas
- e) 245 gramas

14. Duas caixas de suco enchem onze copos



Quantas caixas de suco são necessárias para encher 38 copos e meio?

- a) 8 caixas
- b) 7 caixas e meia
- c) 7 caixas
- d) 6 caixas e meia
- e) 6 caixas

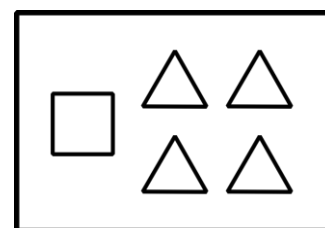
15. Considere as seguintes afirmações

- Alguns Greens são Bartons
- Alguns Bartons são Lasters e Arns
- Nem todo Laster é Arn, mas todo Arn é Laster
- Nenhum Green é Laster

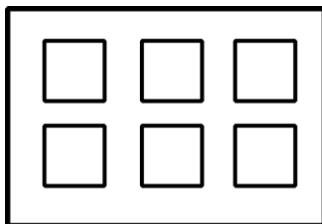
Então, é necessariamente **incorreto**:

- a) Nenhum Laster é Green
- b) Alguns Bartons são Greens
- c) Existem Bartons que não são Arns
- d) Alguns Arns são Bartons
- e) Existem Greens que são Arns

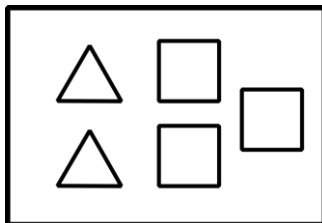
16. As figuras abaixo representam 5 caixas de peças, contendo figuras geométricas planas.



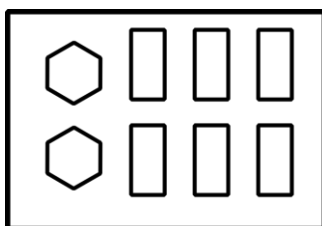
caixa 1



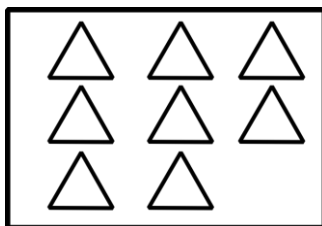
caixa 2



caixa 3

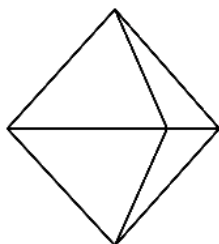
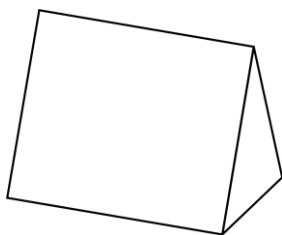


caixa 4



caixa 5

A partir de quais caixas é possível montar os seguintes sólidos?



- a) caixa 1 e caixa 2
b) caixa 3 e caixa 4
c) caixa 2 e caixa 5
d) caixa 3 e caixa 5
e) caixa 1 e caixa 4

QUESTÕES - ATUALIDADES (17 – 20)
02 PONTOS

17. Considere o texto abaixo e marque a alternativa correta

ESTIMATIVA DA POPULAÇÃO DO BRASIL
PASSA DE 210 MILHÕES, DIZ IBGE

A população brasileira foi estimada em 210,1 milhões de habitantes em 5.570 municípios, segundo o Instituto Brasileiro de Geografia e Estatística (IBGE). A estimativa com o total de habitantes dos estados e dos municípios se refere a 1º de julho de 2019.

Fonte: <https://www.ibge.gov.br/>

O estado com a menor população, segundo o IBGE é:

- a) Acre.
b) Roraima.
c) Sergipe.
d) Paraná.
e) Nenhuma das alternativas acima

18. Considere os itens, colocando (V) ou (F) nos parênteses se caso for verdadeiro ou falso, respectivamente:

MANCHA DE ÓLEO ATINGIU 16 ÁREAS DO
LITORAL DA PARAÍBA

A mancha de óleo que atingiu o litoral do Nordeste chegou a mais de 12 localidades da Paraíba, de acordo com o Instituto Brasileiro do Meio Ambiente e dos Recursos Naturais Renováveis (Ibama), que monitora a situação desde setembro do ano passado. Ao todo, mais de 100 localidades de vários municípios no Litoral nordestino foram atingidas. Fonte: <https://www.mma.gov.br>

No Litoral Norte da Paraíba houve registro de mancha de óleo nas cidades de:

- (___) Rio Tinto (Barra do Mamanguape e Lagoa de Praia);
(___) Conde (Praia de Tambaba e Jacumã);
(___) Mataraca (Barra do rio Camaratuba);
(___) Pitimbu (Praia Bela).

A sequência correta é:

- a) V – V – F – F
b) F – V – F – V
c) V – F – V – F
d) V – F – F – F
e) V – V – V – V

19. Julgue as proposições abaixo e marque a alternativa **correta** sobre as **FAKE NEWS**:



- I- "Chama-se *fake* porque não são informações forjadas e nem fabricadas com invenções de fatos.
II- É um termo criado para atribuir notícias falsas, inexatas ou incompletas sobre um determinado movimento civil, partido político ou pessoa.
III- *Fake News* é um termo em inglês e é usado para referir-se a verdadeiras informações divulgadas, principalmente, em redes sociais, mídias e telejornais de grande circulação.

Está(ão) correta(s)

- a) As afirmativas I, II e III.
b) Apenas as afirmativas II e III.
c) Apenas a afirmativa III.
d) Apenas a afirmativa II.
e) Apenas a afirmativa I.

20. Considere os itens, colocando **(V)** ou **(F)** nos parênteses se caso for **verdadeiro ou falso**, respectivamente sobre a crise na Venezuela:

(___) A forte economia interna e as tensões políticas forçaram a entrada de cerca de 5 milhões de imigrantes Venezuelanos segundo as Nações Unidas.

(___) A Venezuela encerrou 2019 com uma inflação menor do que o Brasil segundo dados publicados pelo Banco Central Venezuelano (BCV).

(___) O país tem dois presidentes reconhecidos pelo povo, Juan Guaidó e Hugo Chaves. As incertezas ainda permeiam debates sobre a não intervenção militar, ajuda humanitária dos EUA e soluções alternativas.

A sequência correta é:

- a) F – F – F
b) V – V – V
c) F – F – V
d) V – F – F
e) F – V – F

**QUESTÕES - CONHECIMENTOS
ESPECÍFICOS (21 – 40)
03 PONTOS**

21. Qual o significado da placa **A-15**



- a) Parada obrigatória.
b) Parada obrigatória à frente.
c) Atenção parada.
d) Parada alternativa.
e) Parada perigosa.

22. **NÃO** faz parte do Sistema Nacional de Trânsito.

- a) Polícia Militar.
b) Polícia Rodoviária federal.
c) Polícia Civil.
d) JARI.
e) D.N.I.T.

23. É o órgão máximo normativo e consultivo do Sistema Nacional de Trânsito. Orientando as políticas de trânsito no país e coordenando os demais órgãos do SNT.

- a) CONTRAN.
b) CETRAN.
c) CONTRANDIFE.
d) DETRAN.
e) DENATRAN.

24. Marcelinho ao conduzir seu veículo, observou que um agente de trânsito que através de gestos e de sinalização sonora queria que o devido condutor parasse o veículo para travessia de pedestre. O sinal sonoro utilizado pelo agente foi.

- a) 1 silvo breve e 1 silvo longo.
b) 2 silvos longos.
c) 1 silvo longo.
d) 1 silvo breve.
e) 2 silvos breves.

25. Julgue as assertivas referentes à classificação das infrações e suas devidas pontuações.

- I. Média = 5 pontos.
II. Grave = 6 pontos.

- III. Leve = 3 pontos.
IV. Gravíssima = 7 pontos.

Estão **incorretos** os itens na alternativa.

- a) III, I e II.
b) III e IV.
c) I e IV.
d) I e II.
e) II e III.

26. José condutor do ônibus escolar da cidade de Serra, quando levava seus alunos, foi perguntado sobre o que significava a placa de fundo na cor amarela bordas amarela e preta e legendas na cor



preta . José como bom motorista e atento a sinalização de trânsito logo respondeu que era.

- a) Via lateral à direita.
b) Via lateral à esquerda.
c) Entroncamento oblíquo à esquerda.
d) Entroncamento oblíquo à direita.
e) Cruzamento de vias.

CASAL MORRE APÓS ACIDENTE DE TRÂNSITO NO ACESSO OESTE, EM JOÃO PESSOA.

Um casal morreu na tarde desta segunda-feira (23), durante um acidente envolvendo um carro e uma moto, no acesso oeste, em João Pessoa. Os nomes das vítimas não foram divulgados.

De acordo com o Corpo do Bombeiros, o veículo do casal colidiu na traseira de um carro que estancou na via e o casal, que estava em uma moto, acabou colidindo com o carro que estava parado. Ainda segundo os bombeiros, o casal provavelmente vinha em alta velocidade e não conseguiu frear. Os dois morreram no local.

Segundo o Sargento Souza, da Polícia Militar, foi feito o teste de bafômetro no motorista que havia parado o veículo na via e o teste deu negativo para consumo de álcool. Ele deve prestar depoimento na delegacia ainda nesta segunda-feira.

(fonte:g1.globo.com/pb/paraiba).

Observando o texto motivacional e na luz do CTB, julgue os próximos quatros itens.

27. Em uma passagem do texto é citado que o teste realizado com o etilômetro deu negativo. Porem caso o motorista do veículo tivesse ingerido bebidas alcoólicas, ele teria cometido uma infração de natureza gravíssima com fator multiplicativo de.

- a) 5 vezes.
b) 7 vezes.
c) 10 vezes.
d) 15 vezes.
e) 20 vezes.

28. No acidente citado no texto os dois ocupantes da motocicleta apesar de virem a óbito, estavam de capacete, item de uso obrigatório para trafegar com motocicletas. Porem quando o condutor de uma motocicleta não usa capacete, ele comete.

- a) Infração gravíssima + multa + suspensão do direito de dirigir.
b) Infração gravíssima + multa apenas.
c) Infração grave + multa + suspensão do direito de dirigir.
d) Infração grave + multa apenas.
e) Infração média + multa.

29. Caso o condutor de uma motocicleta esteja usando o capacete corretamente e o passageiro não esteja fazendo uso de capacete, ocorrerá.

- a) Advertência verbal.
b) Advertência por escrito.
c) Infração gravíssima + multa + suspensão do direito de dirigir.
d) Infração grave + multa + suspensão do direito de dirigir.
e) Infração gravíssima + multa apenas.

30. Segundo os Bombeiros, provavelmente o casal vinha em alta velocidade e não conseguiu frear. A alta velocidade é um dos fatores de grande responsabilidade nos acidentes. Nas rodovias quando não sinalizadas, a velocidade máxima para motocicletas é de.

- a) 60 Km/h.
b) 70 Km/h.
c) 80 Km/h.
d) 100 Km/h.
e) 110 Km/h.

31. Caso o condutor no veículo que foi abalroado por trás não tenha preservado o local do acidente, removendo seu veículo, para que houvesse tentativa de socorro às vítimas, então nessa situação o agente de trânsito deverá.

- a) Dar voz de prisão, pois houve mortes.
- b) Não autuar em relação ao caso citado.
- c) Multa-lo pois não preservou o local do acidente.
- d) Autua-lo pois não preservou o local do acidente.
- e) Autua-lo pelo caso citado e por outras infrações.

32. A placa de Regulamentação de fundo branco, símbolo preto, tarja vermelha, orla vermelha que está



representada na figura, tem seu significado na alternativa.

- a) Retorno proibido.
- b) Proibido retornar à esquerda.
- c) Proibido retornar à direita.
- d) Sentido proibido.
- e) Proibido virar à esquerda.

33. Qual alternativa tem uma infração diferente das impostas como gravíssima.

- a) Disputar corrida por espírito de emulação.
- b) Dirigir ameaçando os pedestres que cruzam a via ou os demais veículos.
- c) Transitar com o veículo em calçadas, ciclovias, canteiros.
- d) Dirigir veículo sob efeito de álcool ou entorpecentes.
- e) Deixar o condutor ou passageiro de usar o cinto de segurança.

34. Em acordo com o CTB, existe uma alternativa que não faz parte das infrações graves.

- a) Executar operação de retorno e/ou conversão em locais que são proibidos.
- b) Deixar de parar veículo no acostamento à direita para executar retorno ou conversão.
- c) Dirigir sem atenção ou sem os cuidados indispensáveis à segurança.
- d) Transitar com farol desregulado ou com o fecho de luz alta perturbando a visão de outro condutor.
- e) Deixar de efetuar o registro de veículo no prazo de trinta dias.

35. De acordo com as normas de circulação e conduta, julgue a alternativa **correta**.

- a) A circulação far-se-á pelo lado esquerdo da via, admitindo-se exceções devidamente sinalizada.
- b) Sempre é vedado o trânsito de veículos sobre passeios, calçadas.
- c) A circulação far-se-á pelo lado esquerdo da via, não sendo admitida exceções.
- d) O condutor deverá guardar distância de segurança lateral e frontal entre o seu e os demais veículos, bem como em relação ao bordo da pista, considerando-se no momento a velocidade e as condições do local, da circulação, do veículo e as condições climáticas.
- e) Quando uma pista de rolamento comportar várias faixas de circulação no mesmo sentido, são as da esquerda destinadas ao deslocamento dos veículos mais lentos.

36. João arrumou um emprego para conduzir veículo motorizado utilizado no transporte de passageiro, cuja lotação exceda 8 lugares, excluindo o motorista. Nesse caso, ele deve ser habilitado na.

- a) Categoria A.
- b) Categoria D.
- c) Categoria G.
- d) Categoria B.
- e) Categoria C.

37. Marque a alternativa que não faz parte da classificação dos veículos quanto à tração.

- a) Propulsão humana.
- b) Tração animal.
- c) Automotor.
- d) Híbrido.
- e) Reboque.

38. O Código de Trânsito Brasileiro cita vários exemplos de penalidades, marque a alternativa que não faz menção a uma penalidade.

- a) Multa.
- b) Apreensão do veículo.
- c) Transbordo do excesso de carga.
- d) Advertência por escrito.
- e) Frequência obrigatória em curso de reciclagem.

39. Em acordo com a resolução 14/98 são equipamentos obrigatórios para veículos automotores.

RASCUNHO

- I. Velocímetro.
- II. Buzina.
- III. Lavador de para-brisa.
- IV. Limpador de para-brisa.
- V. Cinto de segurança nos bancos dianteiros apenas.

Estão **corretos** os itens de número.

- a) I, II, III, IV.
- b) I, II, III.
- c) II, IV, V.
- d) I, III, IV.
- e) I, II, III, V.

40. Quando veículos, transitando por fluxos que se cruzem, aproximarem-se de local não sinalizado, terão preferência de passagem: julgue as assertivas para marcar a alternativa em que todos os itens estão **corretos**.

- I. No caso de apenas um fluxo ser proveniente de rodovia, aquele que estiver circulando fora dela.
- II. No caso de rotatória, aquele que estiver circulando por ela.
- III. Em outros casos, o que vier pela direita do condutor.
- IV. No caso de rotatória, aquele que estiver circulando fora dela.
- V. No caso de apenas um fluxo ser proveniente de rodovia, aquele que estiver circulando por ela.
- VI. Em outros casos, o que vier pela esquerda do condutor.

- a) I, IV e VI.
- b) I, III e V.
- c) II, III e V.
- d) III, IV e VI.
- e) II, V e VI.