



CONCURSO PÚBLICO - PROVA OBJETIVA

ASSINATURA DO(A) CANDIDATO

Nº DE INSCRIÇÃO

CONTEMAX

CONSULTORIA TÉCNICA E PLANEJAMENTO LTDA

PREFEITURA MUNICIPAL DE MATARACA

CARGO: MONITOR DE CRECHE

INSTRUÇÕES:

VERIFIQUE SE ESTE CADERNO:

- Corresponde a sua opção de cargo.
- Contém 40 (quarenta) questões, numeradas de 01 a 40, caso contrário reclame ao fiscal da sala outro caderno. **NÃO** serão aceitas reclamações posteriores.
- Para cada questão existe apenas **UMA** resposta certa.
- Você deve ler cuidadosamente cada uma das questões e escolher a resposta certa.
- A alternativa escolhida deve ser marcada na **FOLHA DE RESPOSTAS** que você recebeu.

VOCÊ DEVE:

- Procurar na **FOLHA DE RESPOSTAS**, o número da questão que você está respondendo.
- Verificar no caderno de prova qual a letra (A, B, C, D, E) da resposta que você escolheu.
- Marcar essa letra na **FOLHA DE RESPOSTAS**, conforme o exemplo: [■].

ATENÇÃO:

- Marque as respostas com caneta esferográfica azul ou preta.
- Marque apenas uma letra para cada questão, mais de uma letra assinalada implicará nota zero à questão.
- Não será permitida qualquer espécie de consulta, nem o uso de máquina calculadora.
- Você terá 3 (três) horas para responder a todas as questões e preencher a folha de respostas.
- Devolva esse caderno de prova ao aplicador, juntamente com a sua folha de respostas.
- Proibida a divulgação ou impressão parcial ou total da presente prova. **Direitos Reservados.**

RASCUNHO

QUESTÕES - LÍNGUA PORTUGUESA (1 – 12)
02 PONTOS

TEXTO I
EU VEJO UMA GRAVURA

Eu vejo uma gravura
grande e rasa.
No primeiro plano
Uma casa.
À direita da casa
outra casa.
À esquerda da casa
outra casa.
Lá no fundo da casa
outra casa.
Em frente da casa
uma vala:
onde escorre a lama
doutra casa.

E no chão da casa
outra vala:
onde escorre o esgoto
doutra casa.
Esta casa que eu vejo
não se casa
com o que chamamos
uma casa.
Pois as paredes são
Esburacadas
onde passam aranhas
e baratas.

E os telhados são
folhas de zinco.
E podem cair
a qualquer vento.
E matar a mulher
que mora dentro.
E matar a criança
que está dentro
da mulher que mora
nessa casa.
Ou da mulher que mora
noutra casa.

É preciso pintar
outra gravura
com casas de argamassa
na paisagem.

Crianças cantando
a segurança

da vida construída
à sua imagem.

JOANA EM FLOR, Reynaldo Jardim.

01. Tendo em vista o contexto do poema, nestes versos “*Esta casa que eu vejo / não se casa / com o que chamamos / uma casa. / Pois as paredes são / Esburacadas / onde passam aranhas / e baratas.*” pode-se perceber que fica revelado um sentimento do eu lírico. Esse sentimento é de:

- a) raiva
- b) indignação
- c) nostalgia
- d) esperança
- e) sarcasmo

02. Textos como o acima apresentam caráter poético, pois podem ser considerados pertencentes ao gênero lírico, que, geralmente, utilizam uma linguagem carregada de subjetividade e emotividade. No entanto, no poema de Reynaldo Jardim, observa-se, pelas escolhas linguísticas do poeta, o predomínio de um determinado recurso de linguagem que se distancia, até certo ponto, da subjetividade comum aos poemas. Tal recurso está **corretamente** indicado na opção:

- a) referencialidade, destacando elementos da realidade.
- b) personificação de elementos do cotidiano.
- c) interpelação ao leitor.
- d) objetividade observada no uso da 3ª pessoa do discurso.
- e) completa neutralidade do emissor.

03. Ao lado do aspecto lírico do poema, destacam-se características de uma determinada tipologia textual; tal tipologia está corretamente apontada na alternativa:

- a) narrativa
- b) descritiva
- c) injuntiva
- d) epistolar
- e) expositiva

04. A linguagem do poema organiza-se de forma a chamar a atenção sobre si. Para esse fim, as figuras de linguagem cumprem um papel importante. Na 1ª estrofe, sobressai uma delas, que está corretamente indicada na opção:

- a) metáfora
- b) antítese
- c) eufemismo

- d) metonímia
e) elipse

05. Dentre as diversas estratégias discursivas, pode-se destacar o uso de conectivos lógicos para estabelecer a coesão e a coerência do texto, promovendo, dentre outras funções, a progressão textual. Nos versos “*Esta casa que eu vejo / não se casa / com o que chamamos / uma casa. / Pois as paredes são / Esburacadas / onde passam aranhas / e baratas.*”, encontra-se um exemplo desse mecanismo de coesão com o uso de uma conjunção. Trata-se do vocábulo:

- a) esta
b) que
c) uma
d) pois
e) onde

06. Pode-se perceber ao longo do poema a recorrência do vocábulo “outra”; essa repetição, nesse poema *Eu Vejo uma Gravura*, contribui para criar uma imagem de:

- a) insulamento

- b) organização
c) aversão
d) aglomerado
e) perfeccionismo

07. Em relação à organização sintática do poema, na 2ª estrofe, os períodos apresentam-se como:

- a) compostos por coordenação, principalmente.
b) simples, em sua maioria.
c) compostos por subordinação, principalmente.
d) compostos por coordenação e subordinação, igualmente.
e) compostos por coordenação, apenas.

08. A palavra “*construída*” é acentuada de acordo com determinada regra; a palavra que atende à mesma regra de acentuação está corretamente apontada na opção:

- a) ídiche
b) biquíni
c) substituí-lo
d) ravióli
e) herói

TEXTO II



QUINO, J. L. Toda Mafalda. São Paulo: Martins Fontes, 2003

09. O recurso estilístico presente na fala de Mafalda, no 2º quadrinho, está corretamente apontado na opção:

- a) comparação
b) metáfora
c) metonímia
d) hipérbole
e) gradação

10. No 2º quadrinho, há um problema gramatical. Esse problema é de ordem:

- a) sintática, quanto à pontuação.
b) morfológica, quanto à flexão verbal.
c) sintática, quanto à regência.
d) coesiva.
e) morfológica, quanto à flexão nominal.

11. No último quadrinho, a colocação do pronome em “*Era só escondê-los!*” está inadequada gramaticalmente; o mesmo ocorre em:

- a) Quando se sentiu em dificuldade, pediu ajuda.
b) Não devo dar-lhe mais explicações.
c) Nada me convenceria a trair meus princípios.

d) O contrato dar-se-ia por força das novas demandas de trabalho.


e) Se apresentar-lhe os pêsames, faça-o discretamente.

12. O vocábulo “bem-estar”, no 3º quadrinho, está corretamente grafado com hífen. Assinale a alternativa em que há um vocábulo também corretamente grafado:

- a) auto-escola
- b) hiper-sensibilidade
- c) inter-relação
- d) co-herdeiro
- e) infra-estrutura

QUESTÕES - RACIOCÍNIO LÓGICO (13 – 16)
02 PONTOS


13. Observe as três balanças



Quantos quilogramas pesa o mamão?

- a) 650 gramas
- b) 415 gramas
- c) 1065 gramas
- d) 895 gramas
- e) 245 gramas

14. Duas caixas de suco enchem onze copos



Quantas caixas de suco são necessárias para encher 38 copos e meio?

- a) 8 caixas
- b) 7 caixas e meia
- c) 7 caixas
- d) 6 caixas e meia
- e) 6 caixas

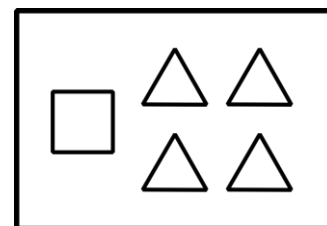
15. Considere as seguintes afirmações

- Alguns Greens são Bartons
- Alguns Bartons são Lasters e Arns
- Nem todo Laster é Arn, mas todo Arn é Laster
- Nenhum Green é Laster

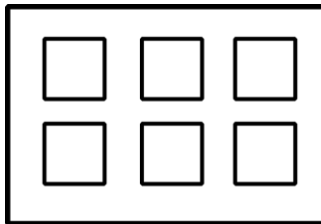
Então, é necessariamente **incorreto**:

- a) Nenhum Laster é Green
- b) Alguns Bartons são Greens
- c) Existem Bartons que não são Arns
- d) Alguns Arns são Bartons
- e) Existem Greens que são Arns

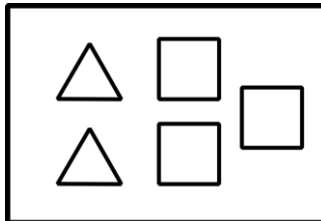
16. As figuras abaixo representam 5 caixas de peças, contendo figuras geométricas planas.



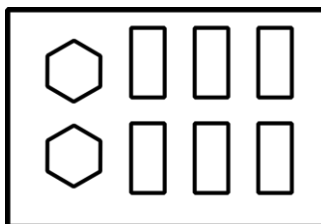
caixa 1



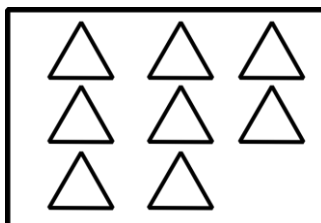
caixa 2



caixa 3

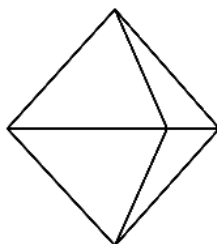
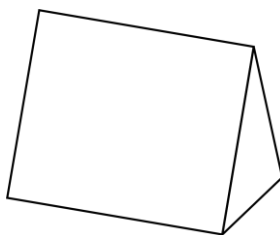


caixa 4



caixa 5

A partir de quais caixas é possível montar os seguintes sólidos?



- a) caixa 1 e caixa 2
b) caixa 3 e caixa 4
c) caixa 2 e caixa 5
d) caixa 3 e caixa 5
e) caixa 1 e caixa 4

QUESTÕES - ATUALIDADES (17 – 20)
02 PONTOS

17. Considere o texto abaixo e marque a alternativa correta

ESTIMATIVA DA POPULAÇÃO DO BRASIL
PASSA DE 210 MILHÕES, DIZ IBGE

A população brasileira foi estimada em 210,1 milhões de habitantes em 5.570 municípios, segundo o Instituto Brasileiro de Geografia e Estatística (IBGE). A estimativa com o total de habitantes dos estados e dos municípios se refere a 1º de julho de 2019.

Fonte: <https://www.ibge.gov.br/>

O estado com a menor população, segundo o IBGE é:

- a) Acre.
b) Roraima.
c) Sergipe.
d) Paraná.
e) Nenhuma das alternativas acima

18. Considere os itens, colocando (V) ou (F) nos parênteses se caso for verdadeiro ou falso, respectivamente:

MANCHA DE ÓLEO ATINGIU 16 ÁREAS DO
LITORAL DA PARAÍBA

A mancha de óleo que atingiu o litoral do Nordeste chegou a mais de 12 localidades da Paraíba, de acordo com o Instituto Brasileiro do Meio Ambiente e dos Recursos Naturais Renováveis (Ibama), que monitora a situação desde setembro do ano passado. Ao todo, mais de 100 localidades de vários municípios no Litoral nordestino foram atingidas. Fonte: <https://www.mma.gov.br>

No Litoral Norte da Paraíba houve registro de mancha de óleo nas cidades de:

- (___) Rio Tinto (Barra do Mamanguape e Lagoa de Praia);
(___) Conde (Praia de Tambaba e Jacumã);
(___) Mataraca (Barra do rio Camaratuba);
(___) Pitimbu (Praia Bela).

A sequência correta é:

- a) V – V – F – F
b) F – V – F – V
c) V – F – V – F
d) V – F – F – F
e) V – V – V – V

19. Julgue as proposições abaixo e marque a alternativa **correta** sobre as **FAKE NEWS**:



- I- “Chama-se *fake* porque não são informações forjadas e nem fabricadas com invenções de fatos.
II- É um termo criado para atribuir notícias falsas, inexatas ou incompletas sobre um determinado movimento civil, partido político ou pessoa.
III- *Fake News* é um termo em inglês e é usado para referir-se a verdadeiras informações divulgadas, principalmente, em redes sociais, mídias e telejornais de grande circulação.

Está(ão) correta(s):

- a) As afirmativas I, II e III.
b) Apenas as afirmativas II e III.
c) Apenas a afirmativa III.
d) Apenas a afirmativa II.
e) Apenas a afirmativa I.

20. Considere os itens, colocando **(V)** ou **(F)** nos parênteses se caso for **verdadeiro ou falso**, respectivamente sobre a crise na Venezuela:

- (___) A forte economia interna e as tensões políticas forçaram a entrada de cerca de 5 milhões de imigrantes Venezuelanos segundo as Nações Unidas.
(___) A Venezuela encerrou 2019 com uma inflação menor do que o Brasil segundo dados publicados pelo Banco Central Venezuelano (BCV).
(___) O país tem dois presidentes reconhecidos pelo povo, Juan Guaidó e Hugo Chaves. As incertezas ainda permeiam debates sobre a não intervenção militar, ajuda humanitária dos EUA e soluções alternativas.

A sequência correta é:

- a) F – F – F
b) V – V – V
c) F – F – V
d) V – F – F
e) F – V – F

**QUESTÕES - CONHECIMENTOS
ESPECÍFICOS (21 – 40)
03 PONTOS**

21. Compete ao Conselho Escolar:

- I. Contribuir para a organização do currículo escolar
II. Criar um cotidiano de reuniões de estudo e reflexão contínua
III. Realizar e avaliar o projeto político-pedagógico das escolas

Estão corretas:

- a) I e II
b) I e III
c) II e III
d) Todas as alternativas
e) Nenhuma das alternativas

22. Complete adequadamente a sentença abaixo:

O Conselho Escolar pode desempenhar um papel _____ na busca de _____ de resultados de aprendizagem dos _____ no âmbito da _____.

- a) importante; estimativas alunos; sociedade
b) relevante; melhoria; alunos; escola
c) principal; amostra; cidadãos; cidade
d) irrelevante; estimativas; estudantes; educação
e) relevante; melhoria; cidadãos; sociedade

23. Julgue, em conformidade com nossa Carta Magna, quanto aos direitos e deveres individuais e coletivos, e marque a alternativa **INCORRETA**.

- a) ninguém será privado de direitos por motivo de crença religiosa ou de convicção filosófica ou política, mesmo se as invocar para eximir-se de obrigação legal a todos imposta e recusar-se a cumprir prestação alternativa, fixada em lei.
b) é inviolável a liberdade de consciência e de crença, sendo assegurado o livre exercício dos cultos religiosos e garantida, na forma da lei, a proteção aos locais de culto e a suas liturgias.
c) é inviolável o sigilo da correspondência e das comunicações telegráficas, de dados e das comunicações telefônicas, salvo, no último caso, por ordem judicial, nas hipóteses e na forma que a lei estabelecer para fins de investigação criminal ou instrução processual penal.

- d) homens e mulheres são iguais em direitos e obrigações, nos termos desta Constituição.
- e) é livre a expressão da atividade intelectual, artística, científica e de comunicação, independentemente de censura ou licença

24. Quanto a Assistência Social, disciplinada na Constituição da República Federativa do Brasil, temos que estão explicitados no artigo 203 os seguintes objetivos:

- I. Amparo Às crianças e adolescentes carentes
- II. A habilitação e reabilitação das pessoas portadoras de deficiência e a promoção de sua integração à vida comunitária
- III. A garantia de um salário mínimo de benefício mensal à pessoa portadora de deficiência e ao idoso, independentemente de comprovação de capacidade de prover a própria manutenção

Estão corretas:

- a) I e III
- b) II e III
- c) I e II
- d) Todas as alternativas
- e) Nenhuma das alternativas

25. São diretrizes pelas quais são organizadas as ações governamentais na área da assistência social:

- a) Descentralização político-administrativa
- b) Vedação da participação popular
- c) Centralização político-administrativa
- d) Formulação de políticas e controle das ações em apenas alguns níveis
- e) Promoção e integração ao mercado de Trabalho

26. Das alternativas abaixo, qual **NÃO** é um dos princípios que regem a assistência social?

- a) Respeito à dignidade do cidadão
- b) Universalização dos direitos sociais
- c) Vigilância socioassistencial
- d) Igualdade de direitos no acesso ao atendimento
- e) Ampla divulgação dos benefícios, serviços, programas e projetos sociais

27. Acerca do Estatuto do Idoso, Lei nº 10.741/03, é **CORRETO** afirmar que:

- a) É obrigação da família, da comunidade, da sociedade e do Poder Público assegurar ao idoso, com relativa prioridade, a efetivação do direito à

vida, à saúde, à alimentação, à educação, à cultura, ao esporte, ao lazer, ao trabalho, à cidadania, à liberdade, à dignidade, ao respeito e à convivência familiar e comunitária.

b) A garantia de prioridade compreende exclusivamente ao atendimento preferencial imediato e individualizado junto aos órgãos públicos prestadores de serviços à população.

c) O direito à liberdade compreende apenas os seguintes aspectos: faculdade de ir, vir e estar nos logradouros públicos e espaços comunitários

d) A prevenção e a manutenção da saúde do idoso serão efetivadas, entre outras, por meio de atendimento domiciliar, incluindo a internação, para a população que dele necessitar e esteja impossibilitada de se locomover, inclusive para idosos abrigados e acolhidos por instituições públicas, filantrópicas ou sem fins lucrativos e eventualmente conveniadas com o Poder Público, nos meios urbano e rural.

e) Incumbe ao Poder Público fornecer aos idosos, gratuitamente, medicamentos, especialmente os de uso continuado, não sendo incluídas próteses e órteses, por serem recursos relativos ao tratamento de habilitação ou reabilitação.

28. Conforme disciplina o Estatuto do Idoso:

“Dentre os idosos, é assegurada prioridade especial aos maiores de _____ anos, atendendo-se suas necessidades sempre preferencialmente em relação aos demais idosos”.

- a) Oitenta
- b) Setenta
- c) Sessenta e cinco
- d) Sessenta
- e) Setenta e cinco

29. Quanto à profissionalização e acesso ao trabalho para o idoso, o Poder Público criará e estimulará:

- a) A preparação dos trabalhadores para a aposentadoria, com antecedência mínima de 2 (dois) anos.
- b) A profissionalização especializada para os idosos, aproveitando seus potenciais e habilidades para as atividades informais.

- c) A preparação dos trabalhadores para a aposentadoria, com antecedência mínima de 6 (seis) meses.
- d) A profissionalização especializada para os idosos, aproveitando seus potenciais e habilidades para as atividades regulares e remuneradas.
- e) estímulo às empresas privadas para admissão de idosos ao trabalho voluntário.

30. Segundo o Referencial Curricular Nacional para a Educação Infantil, a qualidade das experiências oferecidas que podem contribuir para o exercício da cidadania devem estar embasadas nos seguintes princípios, **EXCETO**:

- a) O respeito à dignidade e aos direitos das crianças, consideradas nas suas diferenças individuais, sociais, econômicas, culturais, étnicas, religiosas etc.
- b) O direito das crianças a brincar, como forma particular de expressão, pensamento, interação e comunicação infantil.
- c) O acesso das crianças aos bens socioculturais disponíveis, ampliando o desenvolvimento das capacidades relativas à expressão, à comunicação, à interação social, ao pensamento, à ética e à estética.
- d) A socialização das crianças por meio de sua participação e inserção nas mais diversificadas práticas sociais, sem discriminação de espécie alguma.
- e) O atendimento aos cuidados essenciais associados à permanência e desenvolvimento em seu núcleo familiar.

31. Afim de que as aprendizagens infantis ocorram com sucesso, se faz necessário que o professor considere, na organização do trabalho educativo:

- I. O grau de desafio que as atividades apresentam e o fato de que devam ser significativas e apresentadas de maneira integrada para as crianças e o mais próximas possíveis das práticas sociais reais.
- II. a interação apenas com crianças de mesma idade em situações dirigidas, favorecendo a aprendizagem, o desenvolvimento e a capacidade de problematizar.
- III. A individualidade e a diversidade.

Estão corretas:

- a) I e II
- b) II e III
- c) I e III

- d) Todas as alternativas
- e) Nenhuma das alternativas

32. Em conformidade com o Referencial Curricular Nacional para a Educação Infantil, considerar que as crianças são diferentes entre si, implica em:

- a) Propiciar uma educação baseada em condições de aprendizagem que respeitem suas necessidades e ritmos individuais.
- b) Propiciar uma educação baseada em padronização do processo de ensino.
- c) Propiciar o desenvolvimento de políticas que possam diferenciar as crianças, a partir de uma cultura única.
- d) Proporcionar políticas de ensino, voltadas ao desenvolvimento de qualidades, independente da faixa etária do aluno.
- e) Propiciar a individualidade, nivelando as crianças, a fim de inserir características padrões.

33. Em sintonia com o disposto no Estatuto da Criança e do Adolescente, o direito à liberdade compreende os seguintes aspectos:

- I. Opinião e Expressão.
- II. Crença e Culto religioso.
- III. Participar da vida política, na forma da lei.
- IV. Buscar refúgio, auxílio e orientação.

Estão corretas:

- a) Apenas a I e III.
- b) Apenas a II e IV.
- c) Apenas I, II e III.
- d) Todas as alternativas.
- e) Nenhuma das alternativas.

34. Referente à Lei Orgânica do Município de Mataraca, estado da Paraíba, tem-se como número mínimo de subscritos para a apresentação de Projeto de Lei de iniciativa popular:

- a) 2% do eleitorado inscrito no município da cidade ou de bairros.
- b) 5% do eleitorado inscrito no município da cidade ou de bairros.
- c) 10% do eleitorado inscrito no município da cidade ou de bairros.
- d) 12% do eleitorado inscrito no município da cidade ou de bairros.
- e) 15% do eleitorado inscrito no município da cidade ou de bairros.

35. Os Parâmetros Curriculares Nacionais, têm a função de orientar e garantir a coerência dos investimentos no sistema educacional, através de:

- I. Socialização de discussões, pesquisas e recomendações.
- II. Subsídio da participação de técnicos e professores a nível internacional.
- III. Isolamento de discussões e divisão de pesquisas.

Estão **INCORRETAS**:

- a) I e II
- b) II e III
- c) I e III
- d) Todas as alternativas
- e) Nenhuma das alternativas

36. Sobre os Parâmetros Curriculares Nacionais, temos que estes:

- a) Adotam como eixo o desenvolvimento de capacidades do aluno.
- b) Adotam como eixo o desenvolvimento de capacidades do professor.
- c) Adotam como eixo o desenvolvimento de capacidades do corpo técnico.
- d) Adotam como eixo o desenvolvimento de capacidades da família.
- e) Adotam como eixo o desenvolvimento de capacidades da sociedade.

37. A forma que a LDB definiu para a implantação da gestão democrática da escola pública adotou a estratégia de remeter aos sistemas de ensino a definição das normas de gestão democrática do ensino público na educação básica com dois condicionantes, que são:

- a) Participação dos profissionais da educação de cada região em Conselhos Escolares, bem como a participação da população na elaboração do projeto pedagógico da escola.
- b) Participação dos gestores locais em Conselhos Escolares ou equivalentes, bem como a participação de variados profissionais na elaboração do projeto pedagógico da escola.
- c) Participação dos pedagogos e representantes locais em Conselhos Escolares ou equivalentes, bem como a participação de pais dos alunos na elaboração do projeto pedagógico da escola.

d) Participação das comunidades escolar e local em Conselhos Escolares ou equivalentes, bem como a participação dos profissionais da educação na elaboração do projeto pedagógico da escola.

e) Referendo das comunidades escolar e local unidos em Conselhos Escolares ou equivalentes, bem como a participação dos diretores das escolas públicas e privadas para a elaboração do projeto pedagógico da escola.

38. Sobre o Conselho Escolar, complete adequadamente a sentença abaixo:

“O Conselho será _____ e _____ dos diferentes _____ da escola, internos e externos, desde os _____ pontos de vista, _____ sobre a construção e a gestão de seu _____.”

- a) o motivador; o fomentador; debates; mais simples; tratando futuro.
- b) instrumento; o instaurador; planos; diferentes; decidindo; plano de ação
- c) convocado; formador; funcionamentos; melhores; decidindo; futuro
- d) o motivador; formador; projetos; diferentes; decidindo; plano de gestão.
- e) a voz; o voto; atores; diferentes; deliberando; projeto político-pedagógico.

39. Em sintonia com a LDB, quando afirmamos que **“é entendido como uma das estratégias de gestão democrática da escola pública, tendo como pressuposto o exercício de poder, pela participação, das comunidades escolar e local”**, estamos falando sobre:

- a) Conselho Fiscal
- b) Conselho de Classe
- c) Conselho Escolar
- d) Conselho Diretor
- e) Conselho Gestor

40. Para que se tenha uma dimensão global do processo de ensino-aprendizagem, deve-se observar os seguintes aspectos:

- I. Contexto social onde a escola está inserida.
- II. Como acontece a formação continuada dos docentes e dos funcionários da escola.
- III. Quais as condições físicas e materiais que a escola oferece para que ocorra a aprendizagem.

Está(ão) correta(s):

- a) Apenas I e II
- b) Apenas II e III
- c) Apenas I
- d) Todas as alternativas
- e) Nenhuma das alternativas