



CONCURSO PÚBLICO - PROVA OBJETIVA

ASSINATURA DO(A) CANDIDATO

Nº DE INSCRIÇÃO

CONTEMAX

CONSULTORIA TÉCNICA E PLANEJAMENTO LTDA

PREFEITURA MUNICIPAL DE MATARACA

CARGO: DIGITADOR

INSTRUÇÕES:

VERIFIQUE SE ESTE CADERNO:

- Corresponde a sua opção de cargo.
- Contém 40 (quarenta) questões, numeradas de 01 a 40, caso contrário reclame ao fiscal da sala outro caderno. **NÃO** serão aceitas reclamações posteriores.
- Para cada questão existe apenas **UMA** resposta certa.
- Você deve ler cuidadosamente cada uma das questões e escolher a resposta certa.
- A alternativa escolhida deve ser marcada na **FOLHA DE RESPOSTAS** que você recebeu.

VOCÊ DEVE:

- Procurar na **FOLHA DE RESPOSTAS**, o número da questão que você está respondendo.
- Verificar no caderno de prova qual a letra (A, B, C, D, E) da resposta que você escolheu.
- Marcar essa letra na **FOLHA DE RESPOSTAS**, conforme o exemplo: [■].

ATENÇÃO:

- Marque as respostas com caneta esferográfica azul ou preta.
- Marque apenas uma letra para cada questão, mais de uma letra assinalada implicará nota zero à questão.
- Não será permitida qualquer espécie de consulta, nem o uso de máquina calculadora.
- Você terá 3 (três) horas para responder a todas as questões e preencher a folha de respostas.
- Devolva esse caderno de prova ao aplicador, juntamente com a sua folha de respostas.
- Proibida a divulgação ou impressão parcial ou total da presente prova. **Direitos Reservados.**

QUESTÕES - LÍNGUA PORTUGUESA (1 – 12)
02 PONTOS

TEXTO I
EU VEJO UMA GRAVURA

Eu vejo uma gravura
grande e rasa.
No primeiro plano
Uma casa.
À direita da casa
outra casa.
À esquerda da casa
outra casa.
Lá no fundo da casa
outra casa.
Em frente da casa
uma vala:
onde escorre a lama
doutra casa.

E no chão da casa
outra vala:
onde escorre o esgoto
doutra casa.
Esta casa que eu vejo
não se casa
com o que chamamos
uma casa.
Pois as paredes são
Esburacadas
onde passam aranhas
e baratas.

E os telhados são
folhas de zinco.
E podem cair
a qualquer vento.
E matar a mulher
que mora dentro.
E matar a criança
que está dentro
da mulher que mora
nessa casa.
Ou da mulher que mora
noutra casa.

É preciso pintar
outra gravura
com casas de argamassa
na paisagem.

Crianças cantando
a segurança

da vida construída
à sua imagem.

JOANA EM FLOR, Reynaldo Jardim.

01. Tendo em vista o contexto do poema, nestes versos “*Esta casa que eu vejo / não se casa / com o que chamamos / uma casa. / Pois as paredes são / Esburacadas / onde passam aranhas / e baratas.*” pode-se perceber que fica revelado um sentimento do eu lírico. Esse sentimento é de:

- a) raiva
- b) indignação
- c) nostalgia
- d) esperança
- e) sarcasmo

02. Textos como o acima apresentam caráter poético, pois podem ser considerados pertencentes ao gênero lírico, que, geralmente, utilizam uma linguagem carregada de subjetividade e emotividade. No entanto, no poema de Reynaldo Jardim, observa-se, pelas escolhas linguísticas do poeta, o predomínio de um determinado recurso de linguagem que se distancia, até certo ponto, da subjetividade comum aos poemas. Tal recurso está **corretamente** indicado na opção:

- a) referencialidade, destacando elementos da realidade.
- b) personificação de elementos do cotidiano.
- c) interpelação ao leitor.
- d) objetividade observada no uso da 3ª pessoa do discurso.
- e) completa neutralidade do emissor.

03. Ao lado do aspecto lírico do poema, destacam-se características de uma determinada tipologia textual; tal tipologia está corretamente apontada na alternativa:

- a) narrativa
- b) descritiva
- c) injuntiva
- d) epistolar
- e) expositiva

04. A linguagem do poema organiza-se de forma a chamar a atenção sobre si. Para esse fim, as figuras de linguagem cumprem um papel importante. Na 1ª estrofe, sobressai uma delas, que está corretamente indicada na opção:

- a) metáfora
- b) antítese
- c) eufemismo

- d) metonímia
e) elipse

05. Dentre as diversas estratégias discursivas, pode-se destacar o uso de conectivos lógicos para estabelecer a coesão e a coerência do texto, promovendo, dentre outras funções, a progressão textual. Nos versos “*Esta casa que eu vejo / não se casa / com o que chamamos / uma casa. / Pois as paredes são / Esburacadas / onde passam aranhas / e baratas.*”, encontra-se um exemplo desse mecanismo de coesão com o uso de uma conjunção. Trata-se do vocábulo:

- a) esta
b) que
c) uma
d) pois
e) onde

06. Pode-se perceber ao longo do poema a recorrência do vocábulo “outra”; essa repetição, nesse poema *Eu Vejo uma Gravura*, contribui para criar uma imagem de:

- a) insulamento

- b) organização
c) aversão
d) aglomerado
e) perfeccionismo

07. Em relação à organização sintática do poema, na 2ª estrofe, os períodos apresentam-se como:

- a) compostos por coordenação, principalmente.
b) simples, em sua maioria.
c) compostos por subordinação, principalmente.
d) compostos por coordenação e subordinação, igualmente.
e) compostos por coordenação, apenas.

08. A palavra “*construída*” é acentuada de acordo com determinada regra; a palavra que atende à mesma regra de acentuação está corretamente apontada na opção:

- a) ídiche
b) biquíni
c) substituí-lo
d) ravióli
e) herói

TEXTO II



QUINO, J. L. Toda Mafalda. São Paulo: Martins Fontes, 2003

09. O recurso estilístico presente na fala de Mafalda, no 2º quadrinho, está corretamente apontado na opção:

- a) comparação
b) metáfora
c) metonímia
d) hipérbole
e) gradação

10. No 2º quadrinho, há um problema gramatical. Esse problema é de ordem:

- a) sintática, quanto à pontuação.
b) morfológica, quanto à flexão verbal.
c) sintática, quanto à regência.
d) coesiva.
e) morfológica, quanto à flexão nominal.

11. No último quadrinho, a colocação do pronome em “*Era só escondê-los!*” está inadequada gramaticalmente; o mesmo ocorre em:

- a) Quando se sentiu em dificuldade, pediu ajuda.
b) Não devo dar-lhe mais explicações.
c) Nada me convenceria a trair meus princípios.

d) O contrato dar-se-ia por força das novas demandas de trabalho.


e) Se apresentar-lhe os pêsames, faça-o discretamente.

12. O vocábulo “bem-estar”, no 3º quadrinho, está corretamente grafado com hífen. Assinale a alternativa em que há um vocábulo também corretamente grafado:

- a) auto-escola
- b) hiper-sensibilidade
- c) inter-relação
- d) co-herdeiro
- e) infra-estrutura

QUESTÕES - RACIOCÍNIO LÓGICO (13 – 16)
02 PONTOS


13. Observe as três balanças



Quantos quilogramas pesa o mamão?

- a) 650 gramas
- b) 415 gramas
- c) 1065 gramas
- d) 895 gramas
- e) 245 gramas

14. Duas caixas de suco enchem onze copos



Quantas caixas de suco são necessárias para encher 38 copos e meio?

- a) 8 caixas
- b) 7 caixas e meia
- c) 7 caixas
- d) 6 caixas e meia
- e) 6 caixas

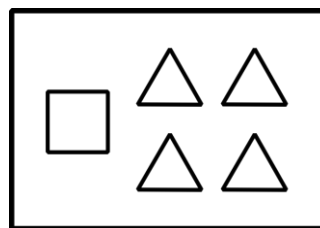
15. Considere as seguintes afirmações

- Alguns Greens são Bartons
- Alguns Bartons são Lasters e Arns
- Nem todo Laster é Arn, mas todo Arn é Laster
- Nenhum Green é Laster

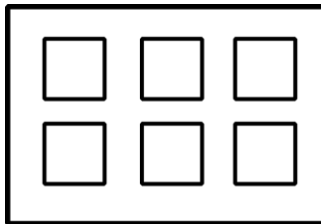
Então, é necessariamente **incorreto**:

- a) Nenhum Laster é Green
- b) Alguns Bartons são Greens
- c) Existem Bartons que não são Arns
- d) Alguns Arns são Bartons
- e) Existem Greens que são Arns

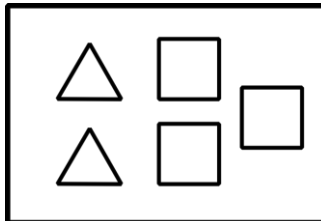
16. As figuras abaixo representam 5 caixas de peças, contendo figuras geométricas planas.



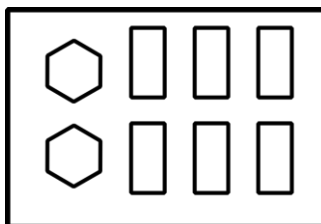
caixa 1



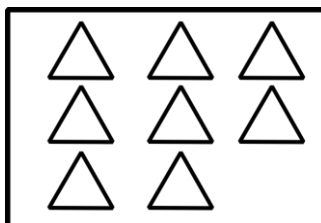
caixa 2



caixa 3

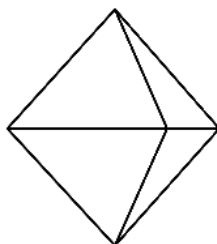
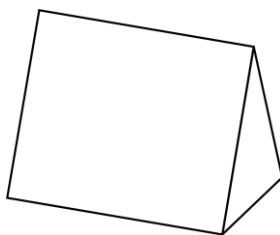


caixa 4



caixa 5

A partir de quais caixas é possível montar os seguintes sólidos?



- a) caixa 1 e caixa 2
b) caixa 3 e caixa 4
c) caixa 2 e caixa 5
d) caixa 3 e caixa 5
e) caixa 1 e caixa 4

QUESTÕES - ATUALIDADES (17 – 20)
02 PONTOS

17. Considere o texto abaixo e marque a alternativa correta

ESTIMATIVA DA POPULAÇÃO DO BRASIL
PASSA DE 210 MILHÕES, DIZ IBGE

A população brasileira foi estimada em 210,1 milhões de habitantes em 5.570 municípios, segundo o Instituto Brasileiro de Geografia e Estatística (IBGE). A estimativa com o total de habitantes dos estados e dos municípios se refere a 1º de julho de 2019.

Fonte: <https://www.ibge.gov.br/>

O estado com a menor população, segundo o IBGE é:

- a) Acre.
b) Roraima.
c) Sergipe.
d) Paraná.
e) Nenhuma das alternativas acima

18. Considere os itens, colocando (V) ou (F) nos parênteses se caso for verdadeiro ou falso, respectivamente:

MANCHA DE ÓLEO ATINGIU 16 ÁREAS DO
LITORAL DA PARAÍBA

A mancha de óleo que atingiu o litoral do Nordeste chegou a mais de 12 localidades da Paraíba, de acordo com o Instituto Brasileiro do Meio Ambiente e dos Recursos Naturais Renováveis (Ibama), que monitora a situação desde setembro do ano passado. Ao todo, mais de 100 localidades de vários municípios no Litoral nordestino foram atingidas. Fonte: <https://www.mma.gov.br>

No Litoral Norte da Paraíba houve registro de mancha de óleo nas cidades de:

- (___) Rio Tinto (Barra do Mamanguape e Lagoa de Praia);
(___) Conde (Praia de Tambaba e Jacumã);
(___) Mataraca (Barra do rio Camaratuba);
(___) Pitimbu (Praia Bela).

A sequência correta é:

- a) V – V – F – F
b) F – V – F – V
c) V – F – V – F
d) V – F – F – F
e) V – V – V – V

19. Julgue as proposições abaixo e marque a alternativa **correta** sobre as **FAKE NEWS**:



- I- "Chama-se *fake* porque não são informações forjadas e nem fabricadas com invenções de fatos.
- II- É um termo criado para atribuir notícias falsas, inexatas ou incompletas sobre um determinado movimento civil, partido político ou pessoa.
- III- *Fake News* é um termo em inglês e é usado para referir-se a verdadeiras informações divulgadas, principalmente, em redes sociais, mídias e telejornais de grande circulação.

Está(ão) correta(s)

- a) As afirmativas I, II e III.
- b) Apenas as afirmativas II e III.
- c) Apenas a afirmativa III.
- d) Apenas a afirmativa II.
- e) Apenas a afirmativa I.

20. Considere os itens, colocando **(V)** ou **(F)** nos parênteses se caso for **verdadeiro ou falso**, respectivamente sobre a crise na Venezuela:

(___) A forte economia interna e as tensões políticas forçaram a entrada de cerca de 5 milhões de imigrantes Venezuelanos segundo as Nações Unidas.

(___) A Venezuela encerrou 2019 com uma inflação menor do que o Brasil segundo dados publicados pelo Banco Central Venezuelano (BCV).

(___) O país tem dois presidentes reconhecidos pelo povo, Juan Guaidó e Hugo Chaves. As incertezas ainda permeiam debates sobre a não intervenção militar, ajuda humanitária dos EUA e soluções alternativas.

A sequência correta é:

- a) F – F – F
- b) V – V – V
- c) F – F – V
- d) V – F – F
- e) F – V – F

**QUESTÕES - CONHECIMENTOS
ESPECÍFICOS (21 – 40)
03 PONTOS**

21. Quais teclas são utilizadas para configurar dois monitores no sistema Microsoft Windows 10?

- a) Alt + P
- b) (B)Tecla do Windows + P
- c) Contrl + Alt + Del
- d) Alt + F
- e) Tecla do Windos + M

22. Assinale a alternativa que apresenta a descrição **INCORRETA** de algumas extensões de arquivos do Windows:

- a) .bmp - Arquivo de imagem
- b) .ppt - Arquivo do Microsoft Power Point
- c) .txt - Arquivo de texto
- d) .rar - Arquivo de vídeo
- e) .tmp - Arquivo temporário

23. Assinale a alternativa que apresenta a descrição **INCORRETA** quando em se tratando de softwares compactadores:

- a) WinRar
- b) 7Zip
- c) FilZip
- d) MP3
- e) WinZip

24. Assinale a alternativa que apresenta a descrição extensão **CORRETA** quando falamos sobre softwares para execução de arquivos contendo multimídia em geral.

- a) WinRar
- b) WAV
- c) FilZip
- d) 7Zip
- e) WinZip

25. Qual das alternativas abaixo é o tipo de backup que faz a cópia completa de todos os arquivos?

- a) Backup Diferencial
- b) Backup Completo (Full)
- c) Backup Incrementa
- d) Backup na nuvem
- e) Backup por pen drive

26. Assinale a alternativa que apresenta a descrição **CORRETA** sobre qual a função de um dispositivo de entrada, por exemplo, teclado, mouse, monitor etc.

- a) são utilizados pelos usuários para enviar dados para a Unidade Central de Processamento (CPU – Central Processment Unity)
- b) são utilizados pelos usuários para receber dados para a Unidade Central de Processamento (CPU – Central Processment Unity)
- c) são utilizados pelos usuários para compactar os dados para a Unidade Central de Processamento (CPU – Central Processment Unity)
- d) Não possuem nenhuma função
- e) Não são utilizados pelos usuários para enviar dados para a Unidade Central de Processamento (CPU – Central Processment Unity)

27. Assinale a alternativa que apresenta a descrição **CORRETA** sobre qual a função de um HD:

- a) O HD (hard disk drive ou disco rígido) é o disco de memória responsável pela armazenagem dos dados no computador.
- b) O HD (hard disk drive ou disco rígido) é o disco de memória responsável pela deleção dos dados no computador.
- c) HD que usa chips de memória flash no lugar de discos magnéticos.
- d) O HD não tem utilidade para um computador
- e) O HD (hard disk drive ou disco rígido) é o disco físico responsável pela armazenagem dos dados no Sistema Operacional.

28. O armazenamento de informações em computadores é feito pela utilização de dispositivos chamados de memória, que as mantêm de forma volátil ou permanente. Entre esses dispositivos, está à memória RAM ou memória assinale a alternativa correta sobre o armazenamento.

- a) magnética.
- b) secundária.
- c) cache.
- d) principal.
- e) de armazenamento em massa.

29. Qual das alternativas abaixo descreve a tabela FAT?

- a) Tabela na qual o DOS define como espaço do disco é usado. O DOS divide todo o espaço do disco em volume – A:, C: .

b) Tabela na qual o DOS define como espaço do disco é usado. O DOS divide uma parte do espaço do disco em volume – A: , C: .

c) Tabela na qual o DOS define o conteúdo do Disco.

d) É o diretório de nível mais alto.

e) Nenhuma das alternativas acima.

30. No prompt de comandos MS-DOS de um Sistema Operacional o usuário digitou o seguinte comando: **dir /L c:**

O comando dir é utilizado no MS-DOS para exibir o conteúdo de um diretório, informar o número de arquivos, o espaço utilizado pela pasta e o espaço livre no disco.

O comando digitado será aplicado para o diretório **C:** e o parâmetro **“/L”** foi utilizado para:

- a) Listar apenas o nome dos arquivos
- b) Pausar a cada página.
- c) Listar nome dos arquivos em letras minúsculas
- d) Help, exibe as opções que podem ser utilizadas no DIR
- e) Nenhuma das alternativas acima.

31. Qual a técnica que permite reduzir o tamanho de arquivos, sem que haja perda de informação?

- a) Compactação
- b) Deleção
- c) Criptografia
- d) Minimização
- e) Encolhimento adaptativo

32. Quanto ao Windows Explorer, assinale a opção **correta**.

a) O Windows Explorer é utilizado para gerenciar pastas e arquivos e por seu intermédio não é possível acessar o Painel de Controle, o qual só pode ser acessado pelo botão Iniciar do Windows.

b) Para se obter a listagem completa dos arquivos salvos em um diretório, exibindo-se tamanho, tipo e data de modificação, deve-se selecionar Detalhes nas opções de Modos de Exibição.

c) No Windows Explorer, o item Meus Locais de Rede oferece um histórico de páginas visitadas na Internet para acesso direto a elas.

d) Quando um arquivo estiver aberto no Windows e a opção Renomear for acionada no Windows Explorer com o botão direito do mouse, será salva uma nova versão do arquivo e a anterior continuará aberta com o nome antigo.

e) Para se encontrar arquivos armazenados na estrutura de diretórios do Windows, deve-se utilizar o sítio de busca Google, pois é ele que dá acesso a todos os diretórios de máquinas ligadas à Internet

33. Um item selecionado do Windows pode ser excluído permanentemente, sem colocá-Lo na Lixeira, utilizando simultaneamente quais teclas?

- a) Ctrl + Delete.
- b) Shift + End.
- c) Shift + Delete.
- d) Ctrl + End.
- e) Ctrl + X.

34. Assinale a afirmativa sobre o que não é uma característica de Software livre.

- a) O usuário pode executar o software, para qualquer uso.
- b) O usuário não tem a liberdade de melhorar o programa e de tornar as modificações públicas de modo que a comunidade inteira beneficie da melhoria.
- c) Existe a liberdade de estudar o funcionamento do programa e de adaptá-lo às suas necessidades.
- d) É permitido redistribuir cópias.
- e) O usuário tem a liberdade de melhorar o programa e de tornar as modificações públicas de modo que a comunidade inteira beneficie da melhoria.

35. No Microsoft Powerpoint 2010, em sua configuração padrão, um slide pode ser configurado como oculto. Marque a alternativa **CORRETA**.

- a) clicar com o botão direito do mouse no slide que você deseja ocultar e, em seguida, clique em ocultar slide.
- b) clicar com o botão invertido do mouse e selecionar a opção Reiniciar Slide.
- c) pressionar CTRL+A.
- d) pressionar CTRL+C.
- e) Nenhuma das alternativas

36. Assinale a única alternativa que indica corretamente a função do ícone Σ , no Microsoft Excel.

- a) DIVISÃO
- b) Equação de segundo grau
- c) Auto Completar
- d) Corrigir erros de fórmulas na planilha

e) SOMA

37. Assinale a única alternativa que indica **corretamente** a função da função PROCV, no Microsoft Excel.

- a) **PROCV** é uma função do Excel que permite ao usuário fazer uma procura na vertical de alguma informação, seja ela número ou texto
- b) **PROCV** é uma função do Excel que permite ao usuário fazer uma procura na em todas as planilhas de alguma informação, desde que seja número.
- c) **PROCV** é uma função para Auto Completar
- d) **PROCV** é uma função para somar.
- e) Todas as alternativas estão corretas.

38. Assinale a alternativa que descreve o que é criptografia?

- a) A criptografia trata a vulnerabilidade da informação
- b) A criptografia verifica se um dado é sensível ou não.
- c) A criptografia trata da codificação de informação, transformando dados em códigos que dificultam a leitura por pessoas não autorizadas.
- d) A criptografia trata da decodificação de informação.
- e) Todas as alternativas estão corretas.

39. Assinale a alternativa **CORRETA** que descreve Criptografia simétrica.

- a) Essa técnica possui duas sequencias distintas, uma para realizar a codificação, enquanto existe outra para a decodificação. Ambas só apresentam uma função, não sendo possível utilizá-las para outra.
- b) Esse processo de encriptação de dados é o mais simples e nele existe apenas uma chave, de posse do emissor da mensagem e do destinatário. Neste caso a mesma sequência é utilizada para codificar e descodificar as informações.
- c) Esse processo faz com que a chave seja aberta somente pelo provedor interno.
- d) Todas as alternativas estão corretas.
- e) Esse processo faz com que a chave seja aberta somente pelo provedor externo.

40. Para ser possível manter a proteção diante das ameaças internas e externas existem alguns fundamentos básicos necessários em todas as empresas.

Eles são essenciais para vencer os desafios do cibercrime. Confira quais são:

- I. Confidencialidade
 - II. Integridade
 - III. Disponibilidade
 - IV. Autenticidade
-
- a) Somente a resposta I está correta.
 - b) Somente as respostas I, II, III estão corretas,
 - c) Somente as respostas III e IV estão corretas
 - d) Todas as alternativas estão corretas.
 - e) Nenhuma das alternativas está correta.

RASCUNHO
