



CONCURSO PÚBLICO - PROVA OBJETIVA

ASSINATURA DO(A) CANDIDATO

Nº DE INSCRIÇÃO

CONTEMAX

CONSULTORIA TÉCNICA E PLANEJAMENTO LTDA

PREFEITURA MUNICIPAL DE MATARACA

CARGO: AUXILIAR DE SAÚDE BUCAL

INSTRUÇÕES:

VERIFIQUE SE ESTE CADERNO:

- Corresponde a sua opção de cargo.
- Contém 40 (quarenta) questões, numeradas de 01 a 40, caso contrário reclame ao fiscal da sala outro caderno. **NÃO** serão aceitas reclamações posteriores.
- Para cada questão existe apenas **UMA** resposta certa.
- Você deve ler cuidadosamente cada uma das questões e escolher a resposta certa.
- A alternativa escolhida deve ser marcada na **FOLHA DE RESPOSTAS** que você recebeu.

VOCÊ DEVE:

- Procurar na **FOLHA DE RESPOSTAS**, o número da questão que você está respondendo.
- Verificar no caderno de prova qual a letra (A, B, C, D, E) da resposta que você escolheu.
- Marcar essa letra na **FOLHA DE RESPOSTAS**, conforme o exemplo: [■].

ATENÇÃO:

- Marque as respostas com caneta esferográfica azul ou preta.
- Marque apenas uma letra para cada questão, mais de uma letra assinalada implicará nota zero à questão.
- Não será permitida qualquer espécie de consulta, nem o uso de máquina calculadora.
- Você terá 3 (três) horas para responder a todas as questões e preencher a folha de respostas.
- Devolva esse caderno de prova ao aplicador, juntamente com a sua folha de respostas.
- Proibida a divulgação ou impressão parcial ou total da presente prova. **Direitos Reservados.**

RASCUNHO

**QUESTÕES - LÍNGUA PORTUGUESA (1 – 12)
02 PONTOS****TEXTO I
EU VEJO UMA GRAVURA**

Eu vejo uma gravura
grande e rasa.
No primeiro plano
Uma casa.
À direita da casa
outra casa.
À esquerda da casa
outra casa.
Lá no fundo da casa
outra casa.
Em frente da casa
uma vala:
onde escorre a lama
doutra casa.

E no chão da casa
outra vala:
onde escorre o esgoto
doutra casa.
Esta casa que eu vejo
não se casa
com o que chamamos
uma casa.
Pois as paredes são
Esburacadas
onde passam aranhas
e baratas.

E os telhados são
folhas de zinco.
E podem cair
a qualquer vento.
E matar a mulher
que mora dentro.
E matar a criança
que está dentro
da mulher que mora
nessa casa.
Ou da mulher que mora
noutra casa.

É preciso pintar
outra gravura
com casas de argamassa
na paisagem.

Crianças cantando
a segurança

da vida construída
à sua imagem.

JOANA EM FLOR, Reynaldo Jardim.

01. Tendo em vista o contexto do poema, nestes versos “*Esta casa que eu vejo / não se casa / com o que chamamos / uma casa. / Pois as paredes são / Esburacadas / onde passam aranhas / e baratas.*” pode-se perceber que fica revelado um sentimento do eu lírico. Esse sentimento é de:

- a) raiva
- b) indignação
- c) nostalgia
- d) esperança
- e) sarcasmo

02. Textos como o acima apresentam caráter poético, pois podem ser considerados pertencentes ao gênero lírico, que, geralmente, utilizam uma linguagem carregada de subjetividade e emotividade. No entanto, no poema de Reynaldo Jardim, observa-se, pelas escolhas linguísticas do poeta, o predomínio de um determinado recurso de linguagem que se distancia, até certo ponto, da subjetividade comum aos poemas. Tal recurso está **corretamente** indicado na opção:

- a) referencialidade, destacando elementos da realidade.
- b) personificação de elementos do cotidiano.
- c) interpelação ao leitor.
- d) objetividade observada no uso da 3ª pessoa do discurso.
- e) completa neutralidade do emissor.

03. Ao lado do aspecto lírico do poema, destacam-se características de uma determinada tipologia textual; tal tipologia está corretamente apontada na alternativa:

- a) narrativa
- b) descritiva
- c) injuntiva
- d) epistolar
- e) expositiva

04. A linguagem do poema organiza-se de forma a chamar a atenção sobre si. Para esse fim, as figuras de linguagem cumprem um papel importante. Na 1ª estrofe, sobressai uma delas, que está corretamente indicada na opção:

- a) metáfora
- b) antítese
- c) eufemismo

- d) metonímia
- e) elipse

05. Dentre as diversas estratégias discursivas, pode-se destacar o uso de conectivos lógicos para estabelecer a coesão e a coerência do texto, promovendo, dentre outras funções, a progressão textual. Nos versos “*Esta casa que eu vejo / não se casa / com o que chamamos / uma casa. / Pois as paredes são / Esburacadas / onde passam aranhas / e baratas.*”, encontra-se um exemplo desse mecanismo de coesão com o uso de uma conjunção. Trata-se do vocábulo:

- a) esta
- b) que
- c) uma
- d) pois
- e) onde

06. Pode-se perceber ao longo do poema a recorrência do vocábulo “outra”; essa repetição, nesse poema *Eu Vejo uma Gravura*, contribui para criar uma imagem de:

- a) insulamento

- b) organização
- c) aversão
- d) aglomerado
- e) perfeccionismo

07. Em relação à organização sintática do poema, na 2ª estrofe, os períodos apresentam-se como:

- a) compostos por coordenação, principalmente.
- b) simples, em sua maioria.
- c) compostos por subordinação, principalmente.
- d) compostos por coordenação e subordinação, igualmente.
- e) compostos por coordenação, apenas.

08. A palavra “*construída*” é acentuada de acordo com determinada regra; a palavra que atende à mesma regra de acentuação está corretamente apontada na opção:

- a) ídiche
- b) biquíni
- c) substituí-lo
- d) ravióli
- e) herói

TEXTO II



QUINO, J. L. Toda Mafalda. São Paulo: Martins Fontes, 2003

09. O recurso estilístico presente na fala de Mafalda, no 2º quadrinho, está corretamente apontado na opção:

- a) comparação
- b) metáfora
- c) metonímia
- d) hipérbole
- e) gradação

- a) sintática, quanto à pontuação.
- b) morfológica, quanto à flexão verbal.
- c) sintática, quanto à regência.
- d) coesiva.
- e) morfológica, quanto à flexão nominal.

11. No último quadrinho, a colocação do pronome em “*Era só escondê-los!*” está inadequada gramaticalmente; o mesmo ocorre em:

- a) Quando se sentiu em dificuldade, pediu ajuda.
- b) Não devo dar-lhe mais explicações.
- c) Nada me convenceria a trair meus princípios.

d) O contrato dar-se-ia por força das novas demandas de trabalho.


e) Se apresentar-lhe os pêsames, faça-o discretamente.

12. O vocábulo “bem-estar”, no 3º quadrinho, está corretamente grafado com hífen. Assinale a alternativa em que há um vocábulo também corretamente grafado:

- a) auto-escola
- b) hiper-sensibilidade
- c) inter-relação
- d) co-herdeiro
- e) infra-estrutura

QUESTÕES - RACIOCÍNIO LÓGICO (13 – 16)
02 PONTOS


13. Observe as três balanças



Quantos quilogramas pesa o mamão?

- a) 650 gramas
- b) 415 gramas
- c) 1065 gramas
- d) 895 gramas
- e) 245 gramas

14. Duas caixas de suco enchem onze copos



Quantas caixas de suco são necessárias para encher 38 copos e meio?

- a) 8 caixas
- b) 7 caixas e meia
- c) 7 caixas
- d) 6 caixas e meia
- e) 6 caixas

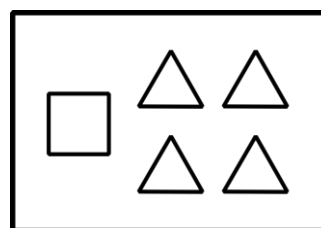
15. Considere as seguintes afirmações

- Alguns Greens são Bartons
- Alguns Bartons são Lasters e Arns
- Nem todo Laster é Arn, mas todo Arn é Laster
- Nenhum Green é Laster

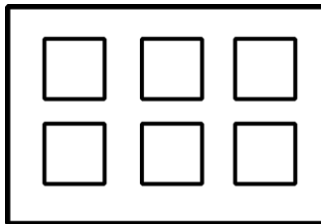
Então, é necessariamente **incorreto**:

- a) Nenhum Laster é Green
- b) Alguns Bartons são Greens
- c) Existem Bartons que não são Arns
- d) Alguns Arns são Bartons
- e) Existem Greens que são Arns

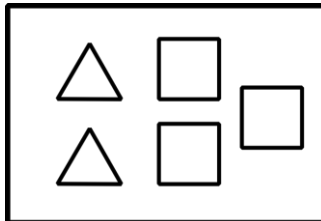
16. As figuras abaixo representam 5 caixas de peças, contendo figuras geométricas planas.



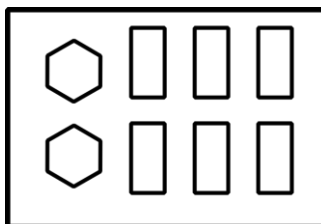
caixa 1



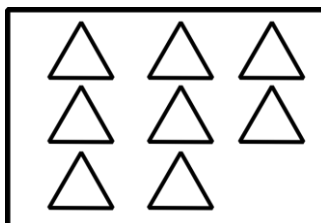
caixa 2



caixa 3

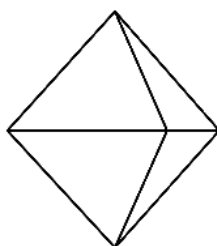
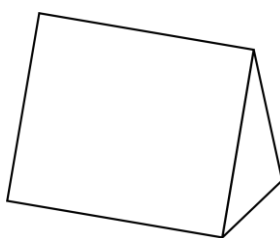


caixa 4



caixa 5

A partir de quais caixas é possível montar os seguintes sólidos?



- a) caixa 1 e caixa 2
- b) caixa 3 e caixa 4
- c) caixa 2 e caixa 5
- d) caixa 3 e caixa 5
- e) caixa 1 e caixa 4

QUESTÕES - ATUALIDADES (17 – 20)
02 PONTOS

17. Considere o texto abaixo e marque a alternativa correta

ESTIMATIVA DA POPULAÇÃO DO BRASIL
PASSA DE 210 MILHÕES, DIZ IBGE

A população brasileira foi estimada em 210,1 milhões de habitantes em 5.570 municípios, segundo o Instituto Brasileiro de Geografia e Estatística (IBGE). A estimativa com o total de habitantes dos estados e dos municípios se refere a 1º de julho de 2019.

Fonte: <https://www.ibge.gov.br/>

O estado com a menor população, segundo o IBGE é:

- a) Acre.
- b) Roraima.
- c) Sergipe.
- d) Paraná.
- e) Nenhuma das alternativas acima

18. Considere os itens, colocando (V) ou (F) nos parênteses se caso for verdadeiro ou falso, respectivamente:

MANCHA DE ÓLEO ATINGIU 16 ÁREAS DO
LITORAL DA PARAÍBA

A mancha de óleo que atingiu o litoral do Nordeste chegou a mais de 12 localidades da Paraíba, de acordo com o Instituto Brasileiro do Meio Ambiente e dos Recursos Naturais Renováveis (Ibama), que monitora a situação desde setembro do ano passado. Ao todo, mais de 100 localidades de vários municípios no Litoral nordestino foram atingidas. Fonte: <https://www.mma.gov.br>

No Litoral Norte da Paraíba houve registro de mancha de óleo nas cidades de:

- () Rio Tinto (Barra do Mamanguape e Lagoa de Praia);
- () Conde (Praia de Tambaba e Jacumã);
- () Mataraca (Barra do rio Camaratuba);
- () Pitimbu (Praia Bela).

A sequência correta é:

- a) V – V – F – F
- b) F – V – F – V
- c) V – F – V – F
- d) V – F – F – F
- e) V – V – V – V

19. Julgue as proposições abaixo e marque a alternativa **correta** sobre as **FAKE NEWS**:



- I- “Chama-se *fake* porque não são informações forjadas e nem fabricadas com invenções de fatos.
- II- É um termo criado para atribuir notícias falsas, inexatas ou incompletas sobre um determinado movimento civil, partido político ou pessoa.
- III- *Fake News* é um termo em inglês e é usado para referir-se a verdadeiras informações divulgadas, principalmente, em redes sociais, mídias e telejornais de grande circulação.

Está(ão) correta(s)

- a) As afirmativas I, II e III.
- b) Apenas as afirmativas II e III.
- c) Apenas a afirmativa III.
- d) Apenas a afirmativa II.
- e) Apenas a afirmativa I.

20. Considere os itens, colocando **(V)** ou **(F)** nos parênteses se caso for **verdadeiro** ou **falso**, respectivamente sobre a crise na Venezuela:

- () A forte economia interna e as tensões políticas forçaram a entrada de cerca de 5 milhões de imigrantes Venezuelanos segundo as Nações Unidas.
- () A Venezuela encerrou 2019 com uma inflação menor do que o Brasil segundo dados publicados pelo Banco Central Venezuelano (BCV).
- () O país tem dois presidentes reconhecidos pelo povo, Juan Guaidó e Hugo Chaves. As incertezas ainda permeiam debates sobre a não intervenção militar, ajuda humanitária dos EUA e soluções alternativas.

A sequência correta é:

- a) F – F – F
- b) V – V – V
- c) F – F – V
- d) V – F – F
- e) F – V – F

QUESTÕES - CONHECIMENTOS
ESPECÍFICOS (21 – 40)
03 PONTOS

Notação dentária FDI é uma notação dental amplamente utilizado por dentistas internacionalmente para associar informações a um dente específico. Desenvolvido pela FDI World Dental Federation, notação World Dental Federation também é conhecido como “notação ISO 3950”.

Com base na notação dentária FDI, responda as questões 21 e 22:

21. Relacione as colunas e assinale a alternativa que contém a sequência **correta**

Coluna I

- 1. 2º molar inferior direito
- 2. 2º molar superior esquerdo
- 3. 1º pré-molar superior direito
- 4. Canino inferior direito

Coluna II

- () 43
- () 47
- () 27
- () 14

- a) 1 – 43 ; 2 – 47; 3 – 27; 4 – 14;
- b) 1 – 47 ; 2 – 27; 3 – 14; 4 – 43;
- c) 1 – 47 ; 2 – 43; 3 – 27; 4 – 14;
- d) 1 – 14 ; 2 – 47; 3 – 27; 4 – 43;
- e) 1 – 27 ; 2 – 47; 3 – 14; 4 – 43;

22. Considere os itens, colocando **(V)** ou **(F)** nos parênteses se caso for **verdadeiro** ou **falso**.

- I. 13 é o número que representa o canino superior decíduo direito.
- II. 24 é o número que representa o segundo pré-molar superior esquerdo.
- III. 18 é o número que representa o terceiro molar superior direito.
- IV. 41 é o número que representa o incisivo central inferior direito.

Assinale a alternativa **correta**:

- a) FFVF
- b) FFFV
- c) FFVV
- d) VFVF
- e) VVVF

23. Uma gestante procurou a UBS relatando muita dor em um dente, o cirurgião dentista decidiu fazer um acesso endodôntico para alívio da dor. Qual anestésico o mais indicado para ser colocado na bandeja?

- a) Prilocaína 2%
- b) Mepivacaína 3%
- c) Lidocaína 2%
- d) Articaína 3%
- e) Bupivacaína 2%

Os dentistas utilizam diversos materiais contaminantes que necessitam de cuidado no descarte. Sabemos que o ecossistema sofre diversas agressões de toda a população, desde os tempos mais remotos até a atualidade. O descarte do lixo de forma correta é essencial e precisa estar associado a outros hábitos para evitar a poluição, o desperdício e a contaminação. Essas medidas previnem doenças causadas pela falta de consciência ecológica e agem no extermínio da degradação do planeta.

Com base no texto, responda as questões 24 e 25:

24. A imagem a seguir simboliza qual tipo de resíduo?



- a) Risco químico;
- b) Risco biológico;
- c) Risco físico;
- d) Rejeito radioativo;
- e) Lixo comum reciclável.

25. Os resíduos de risco químico são representados por qual simbologia?



a)



b)



c)



d)

e) Nenhuma das anteriores.

26. As especialidades odontológicas que lidam com aparelho, estética e canal, são respectivamente:

- a) Ortodontia, dentística e endodontia;
- b) Endodontia, dentística e ortodontia;
- c) Dentística, ortodontia e endodontia;
- d) Ortodontia, endodontia e dentística;
- e) Ortodontia, dentística e canalogia.

27. Os elementos dentários que possuem 3 raízes são:

- a) Molares inferiores;
- b) Pré-molares superiores;
- c) Pré-molares inferiores;
- d) Molares superiores;
- e) Todos os molares.

28. _____ é o instrumental utilizado para separar tecidos mole do osso. Preencha **corretamente** a lacuna.

- a) Carpule;
- b) Hollemback;
- c) Cureta Gracey;
- d) Minessota;
- e) Sindesmótomo.

29. Uma criança chegou à urgência da UBS após sofrer uma queda onde teve seu incisivo central esquerdo decíduo completamente instruído, ao preencher a anamnese, deve relatar a intrusão do elemento:

- a) 21
- b) 61
- c) 51
- d) 62
- e) 11

30. Este instrumental é utilizado na montagem da bandeja da especialidade:



- a) Exame clínico;
- b) Cirurgia;
- c) Prótese;
- d) Dentística;
- e) Periodontia.

31. Raspagem periodontal é a instrumentação das superfícies coronárias e radiculares dos dentes para remover placa, cálculo e manchas dessas superfícies. O instrumental que pode ser utilizado para raspagem da face lingual dos incisivos centrais inferiores é:

- a) Gracey 5-6;
- b) Gracey 7-8;
- c) Gracey 11-12;
- d) Mccall 13-14;
- e) Mccall 17-18.

32. A esterelização é uma etapa fundamental e indispensável para o sucesso do tratamento odontológico. Para iniciar o processo, é necessário o acréscimo de uma substância na autoclave para auxiliar na esterilização:

- a) Glutaraldeído;
- b) Água destilada;
- c) Álcool 70%;
- d) Hipoclorito de sódio 1%;
- e) Água mineral.

33. Ao exame clínico de um paciente, o cirurgião dentista identificou uma cárie no elemento 46, de classe I, ou seja, a cárie é localizada na face:

- a) Lingual;
- b) Vestibular;
- c) Mesial;
- d) Distal;
- e) Oclusal.

34. Assinale a alternativa que apresenta o instrumental ideal para aplicar o cimento de hidróxido de cálcio ao interior de uma cavidade:

- a) Porta dycal;
- b) Seringa centrix
- c) Porta amálgama;
- d) Sonda exploradora;
- e) Gotejador

35. A odontologia preventiva também deve estar presente na atuação de outros profissionais da saúde como um todo. No caso das crianças, por exemplo, os pediatras devem estar em sintonia com a atuação dos dentistas para também poder orientar os pais quanto a importância das visitas ao Consultório Odontológico. Um verdadeiro trabalho multidisciplinar. Entre as alternativas abaixo, assinale a que apresenta a medida mais eficaz para prevenir a cárie e a doença periodontal:

- a) Uso de selante em fósulas e fissuras;
- b) Uso de flúor sistêmico.
- c) Escovação dentária com dentifrício fluoretado.
- d) Escovação dentária e uso de comprimidos e chicletes fluoretados
- e) Uso de verniz e flúor sistêmico.

36. A Lei nº 8.080/90 regulamenta a Constituição Federal de 1988 e é a primeira Lei Orgânica do SUS (Sistema Único de Saúde). A Lei dispõe sobre a promoção, proteção recuperação da saúde e a organização e o funcionamento dos serviços correspondentes. No primeiro artigo da Lei Orgânica faz uma referência o artigo 196 da Constituição Federal.

Diante do que foi dito, marque **a alternativa correta**.

- a) Art. 1º Esta lei regula, em todo o território nacional, as ações e serviços de saúde, executados isolada ou conjuntamente, em caráter permanente ou eventual, por pessoas naturais ou jurídicas de direito Público ou privado.
- b) Art. 1º Esta lei regula, em todo o território nacional e internacional, as ações e serviços de saúde, executados isolada ou conjuntamente, em caráter permanente ou eventual, por pessoas naturais ou jurídicas de direito Público ou privado.
- c) Art. 1º Esta lei regula, em todo o território nacional, as ações e serviços de saúde, executados isolada em caráter não permanente e eventual, por pessoas naturais ou jurídicas de direito Público ou privado.
- d) Art. 1º Esta lei regula, em todo o território internacional, as ações e serviços de saúde, executados isoladamente e esporadicamente, em caráter permanente, abstrato ou eventual, por

pessoas naturais ou jurídicas de direito Público ou privado.

e) Art. 1º Esta lei regula, em todo o território nacional, as ações e serviços de saúde, executados de forma conjuntamente, em caráter permanente ou eventual, por pessoas naturais ou jurídicas de direito Público ou privado.

37. O Sistema Único de Saúde (SUS) é um dos maiores e mais complexos sistemas de saúde pública do mundo, abrangendo desde o simples atendimento para avaliação da pressão arterial, por meio da Atenção Primária, até o transplante de órgãos, garantindo acesso integral, universal e gratuito para toda a população do país. O artigo 4º da Lei 8.080/90 conceitua o SUS como um conjunto de ações e serviços de saúde prestados:

Marque a alternativa correta.

a) por instituições presentes em duas pequenas esferas do Governo e da administração direta e indiretas das fundações mantidas pelo Poder Público. De forma complementar, a iniciativa privada tem a possibilidade de participar do SUS.

b) por instituições presentes nas três esferas do Governo e da administração direta e indiretas das fundações mantidas pelo Poder Público. De forma complementar, a iniciativa privada tem a possibilidade de participar do SUS.

c) por instituições presentes nas três esferas do Governo e da administração direta sendo vedada a participação da administração indireta das fundações mantidas pelo Poder Público. De forma complementar, a iniciativa privada tem a possibilidade de participar do SUS.

d) por instituições presentes nas duas esferas do Governo e da administração direta e indiretas das fundações mantidas pela economia mista do Poder Público. De forma complementar, a iniciativa privada tem a possibilidade de participar do SUS.

e) Por instituições presentes nas duas esferas do Governo e da administração direta e indiretas das fundações mantidas pelo Poder Público. De forma complementar, a iniciativa privada tem a possibilidade de participar do SUS desde que altere seu Cadastro e estatuto de criação social.

38. São objetivos do SUS, **exceto**:

a) Identificar e divulgar os fatores condicionantes e determinantes da saúde;

b) Formular a política de saúde nos campos econômicos e sociais para reduzir riscos de doenças e outros agravos;

c) Oferecer assistência à população por meio de ações de promoção, proteção e recuperação da saúde;

d) Executar ações assistenciais e preventivas de modo a garantir às pessoas a assistência integral à sua saúde

e) Formular a política financeira, habitacional, vinculando a taxa de juros à saúde nos campos econômicos e sociais para reduzir riscos de doenças e outros agravos.

39. Acerca dos princípios doutrinários que conferem legitimidade ao SUS (Sistema Único de Saúde) é **CORRETO** afirmar que:

a) O SUS está fundamentado no acesso na região exclusiva do nordeste, visando dar a assistência Integral e igualitária e isso representa um grande avanço por permitir a inclusão social de milhões de brasileiros às ações de saúde.

b) O SUS está fundamentado no acesso a zona urbana, excesso do universal, na assistência Integral e igualitária e isso representa um grande avanço por permitir a inclusão social de milhões de brasileiros às ações de saúde.

c) O SUS está fundamentado no acesso universal, na assistência Integral e igualitária e isso representa um grande avanço por permitir a inclusão social de milhões de brasileiros às ações de saúde.

d) O SUS está fundamentado no acesso transversal e retilíneo territorial, na assistência Integral e igualitária e isso representa um grande avanço por permitir a inclusão social de milhões de brasileiros às ações de saúde.

e) O SUS está fundamentado no acesso universal, na assistência parental, Integral e com desigualitária por idade e isso representa um grande avanço por permitir a inclusão social de milhões de brasileiros às ações de saúde.

40. **“Constituir, portanto, a saúde como ‘um direito de todos e dever do Estado’ implica enfrentar questões tais como a de a população buscar a utilização dos serviços públicos de saúde tendo por referência a sua proximidade, enquanto para os serviços privados a referência principal consiste em ‘ter direito’. Da mesma forma, e exatamente porque essas questões remetem à tradição brasileira de direitos sociais vinculados a um contrato compulsório de caráter contributivo, contrapostos a medidas**

assistencialistas aos carentes, a equidade na universalização do direito à saúde está estreitamente vinculada às mudanças das políticas de saúde no interior de um processo de alteração da relação do Estado com a sociedade, o que vale dizer, da alteração do sistema de poder no país.”

A saúde como direito e como serviço, Amélia Cohn
(1991, p. 25)

Podemos afirmar que a saúde é:

- a) um direito fundamental do ser humano e dever do Estado de garantir a saúde de forma igualitária e universal por meio de políticas econômicas e sociais.
- b) um dever fundamental do ser humano e direito do Estado de garantir a saúde de forma igualitária e universal por meio de políticas econômicas e sociais.
- c) um direito arbitrário do ser humano e dever estado puerpério de garantir a saúde de forma igualitária e universal por meio de políticas econômicas e sociais.
- d) um direito secundário do ser humano e direito da economia privada do Estado de garantir a saúde de forma igualitária e universal por meio de políticas econômicas e sociais.
- e) um direito terciário do ser humano e direito do Estado de garantir a saúde de forma igualitária e universal por meio de políticas econômicas e sociais.