



CONCURSO PÚBLICO - PROVA OBJETIVA

ASSINATURA DO(A) CANDIDATO

Nº DE INSCRIÇÃO

CONTEMAX

CONSULTORIA TÉCNICA E PLANEJAMENTO LTDA

PREFEITURA MUNICIPAL DE MATARACA

CARGO: AGENTE COMUNITÁRIO DE SAÚDE

INSTRUÇÕES:

VERIFIQUE SE ESTE CADERNO:

- Corresponde a sua opção de cargo.
- Contém 40 (quarenta) questões, numeradas de 01 a 40, caso contrário reclame ao fiscal da sala outro caderno. **NÃO** serão aceitas reclamações posteriores.
- Para cada questão existe apenas **UMA** resposta certa.
- Você deve ler cuidadosamente cada uma das questões e escolher a resposta certa.
- A alternativa escolhida deve ser marcada na **FOLHA DE RESPOSTAS** que você recebeu.

VOCÊ DEVE:

- Procurar na **FOLHA DE RESPOSTAS**, o número da questão que você está respondendo.
- Verificar no caderno de prova qual a letra (A, B, C, D, E) da resposta que você escolheu.
- Marcar essa letra na **FOLHA DE RESPOSTAS**, conforme o exemplo: [■].

ATENÇÃO:

- Marque as respostas com caneta esferográfica azul ou preta.
- Marque apenas uma letra para cada questão, mais de uma letra assinalada implicará nota zero à questão.
- Não será permitida qualquer espécie de consulta, nem o uso de máquina calculadora.
- Você terá 3 (três) horas para responder a todas as questões e preencher a folha de respostas.
- Devolva esse caderno de prova ao aplicador, juntamente com a sua folha de respostas.
- Proibida a divulgação ou impressão parcial ou total da presente prova. **Direitos Reservados.**

RASCUNHO

QUESTÕES - LÍNGUA PORTUGUESA (1 – 12)
02 PONTOS

TEXTO I
EU VEJO UMA GRAVURA

Eu vejo uma gravura
grande e rasa.
No primeiro plano
Uma casa.
À direita da casa
outra casa.
À esquerda da casa
outra casa.
Lá no fundo da casa
outra casa.
Em frente da casa
uma vala:
onde escorre a lama
doutra casa.

E no chão da casa
outra vala:
onde escorre o esgoto
doutra casa.
Esta casa que eu vejo
não se casa
com o que chamamos
uma casa.
Pois as paredes são
Esburacadas
onde passam aranhas
e baratas.

E os telhados são
folhas de zinco.
E podem cair
a qualquer vento.
E matar a mulher
que mora dentro.
E matar a criança
que está dentro
da mulher que mora
nessa casa.
Ou da mulher que mora
noutra casa.

É preciso pintar
outra gravura
com casas de argamassa
na paisagem.

Crianças cantando
a segurança

da vida construída
à sua imagem.

JOANA EM FLOR, Reynaldo Jardim.

01. Tendo em vista o contexto do poema, nestes versos “*Esta casa que eu vejo / não se casa / com o que chamamos / uma casa. / Pois as paredes são / Esburacadas / onde passam aranhas / e baratas.*” pode-se perceber que fica revelado um sentimento do eu lírico. Esse sentimento é de:

- a) raiva
- b) indignação
- c) nostalgia
- d) esperança
- e) sarcasmo

02. Textos como o acima apresentam caráter poético, pois podem ser considerados pertencentes ao gênero lírico, que, geralmente, utilizam uma linguagem carregada de subjetividade e emotividade. No entanto, no poema de Reynaldo Jardim, observa-se, pelas escolhas linguísticas do poeta, o predomínio de um determinado recurso de linguagem que se distancia, até certo ponto, da subjetividade comum aos poemas. Tal recurso está **corretamente** indicado na opção:

- a) referencialidade, destacando elementos da realidade.
- b) personificação de elementos do cotidiano.
- c) interpelação ao leitor.
- d) objetividade observada no uso da 3ª pessoa do discurso.
- e) completa neutralidade do emissor.

03. Ao lado do aspecto lírico do poema, destacam-se características de uma determinada tipologia textual; tal tipologia está corretamente apontada na alternativa:

- a) narrativa
- b) descritiva
- c) injuntiva
- d) epistolar
- e) expositiva

04. A linguagem do poema organiza-se de forma a chamar a atenção sobre si. Para esse fim, as figuras de linguagem cumprem um papel importante. Na 1ª estrofe, sobressai uma delas, que está corretamente indicada na opção:

- a) metáfora
- b) antítese
- c) eufemismo

- d) metonímia
- e) elipse

05. Dentre as diversas estratégias discursivas, pode-se destacar o uso de conectivos lógicos para estabelecer a coesão e a coerência do texto, promovendo, dentre outras funções, a progressão textual. Nos versos “*Esta casa que eu vejo / não se casa / com o que chamamos / uma casa. / Pois as paredes são / Esburacadas / onde passam aranhas / e baratas.*”, encontra-se um exemplo desse mecanismo de coesão com o uso de uma conjunção. Trata-se do vocábulo:

- a) esta
- b) que
- c) uma
- d) pois
- e) onde

06. Pode-se perceber ao longo do poema a recorrência do vocábulo “outra”; essa repetição, nesse poema *Eu Vejo uma Gravura*, contribui para criar uma imagem de:

- a) insulamento

- b) organização
- c) aversão
- d) aglomerado
- e) perfeccionismo

07. Em relação à organização sintática do poema, na 2ª estrofe, os períodos apresentam-se como:

- a) compostos por coordenação, principalmente.
- b) simples, em sua maioria.
- c) compostos por subordinação, principalmente.
- d) compostos por coordenação e subordinação, igualmente.
- e) compostos por coordenação, apenas.

08. A palavra “*construída*” é acentuada de acordo com determinada regra; a palavra que atende à mesma regra de acentuação está corretamente apontada na opção:

- a) ídiche
- b) biquíni
- c) substituí-lo
- d) ravióli
- e) herói

TEXTO II



QUINO, J. L. Toda Mafalda. São Paulo: Martins Fontes, 2003

09. O recurso estilístico presente na fala de Mafalda, no 2º quadrinho, está corretamente apontado na opção:

- a) comparação
- b) metáfora
- c) metonímia
- d) hipérbole
- e) gradação

- a) sintática, quanto à pontuação.
- b) morfológica, quanto à flexão verbal.
- c) sintática, quanto à regência.
- d) coesiva.
- e) morfológica, quanto à flexão nominal.

11. No último quadrinho, a colocação do pronome em “*Era só escondê-los!*” está inadequada gramaticalmente; o mesmo ocorre em:

- a) Quando se sentiu em dificuldade, pediu ajuda.
- b) Não devo dar-lhe mais explicações.
- c) Nada me convenceria a trair meus princípios.

10. No 2º quadrinho, há um problema gramatical. Esse problema é de ordem:

d) O contrato dar-se-ia por força das novas demandas de trabalho.


e) Se apresentar-lhe os pêsames, faça-o discretamente.

12. O vocábulo “bem-estar”, no 3º quadrinho, está corretamente grafado com hífen. Assinale a alternativa em que há um vocábulo também corretamente grafado:

- a) auto-escola
- b) hiper-sensibilidade
- c) inter-relação
- d) co-herdeiro
- e) infra-estrutura

QUESTÕES - RACIOCÍNIO LÓGICO (13 – 16)
02 PONTOS


13. Observe as três balanças



Quantos quilogramas pesa o mamão?

- a) 650 gramas
- b) 415 gramas
- c) 1065 gramas
- d) 895 gramas
- e) 245 gramas

14. Duas caixas de suco enchem onze copos



Quantas caixas de suco são necessárias para encher 38 copos e meio?

- a) 8 caixas
- b) 7 caixas e meia
- c) 7 caixas
- d) 6 caixas e meia
- e) 6 caixas

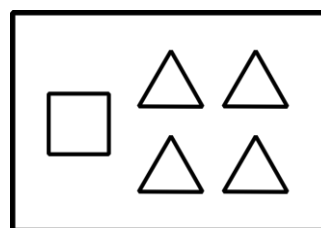
15. Considere as seguintes afirmações

- Alguns Greens são Bartons
- Alguns Bartons são Lasters e Arns
- Nem todo Laster é Arn, mas todo Arn é Laster
- Nenhum Green é Laster

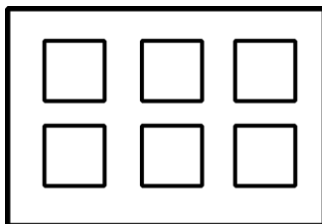
Então, é necessariamente **incorreto**:

- a) Nenhum Laster é Green
- b) Alguns Bartons são Greens
- c) Existem Bartons que não são Arns
- d) Alguns Arns são Bartons
- e) Existem Greens que são Arns

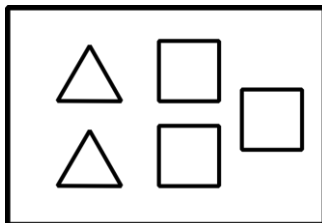
16. As figuras abaixo representam 5 caixas de peças, contendo figuras geométricas planas.



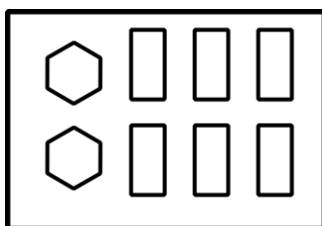
caixa 1



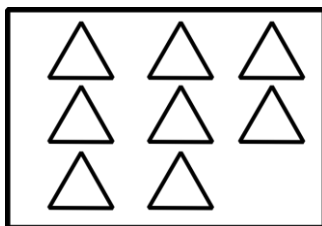
caixa 2



caixa 3

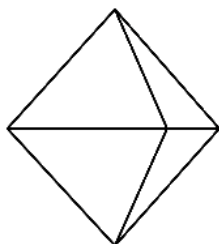
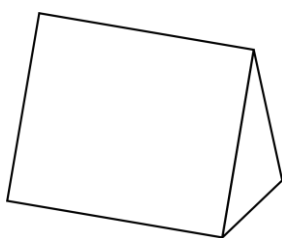


caixa 4



caixa 5

A partir de quais caixas é possível montar os seguintes sólidos?



- a) caixa 1 e caixa 2
- b) caixa 3 e caixa 4
- c) caixa 2 e caixa 5
- d) caixa 3 e caixa 5
- e) caixa 1 e caixa 4

QUESTÕES - ATUALIDADES (17 – 20)
02 PONTOS

17. Considere o texto abaixo e marque a alternativa correta

ESTIMATIVA DA POPULAÇÃO DO BRASIL
PASSA DE 210 MILHÕES, DIZ IBGE

A população brasileira foi estimada em 210,1 milhões de habitantes em 5.570 municípios, segundo o Instituto Brasileiro de Geografia e Estatística (IBGE). A estimativa com o total de habitantes dos estados e dos municípios se refere a 1º de julho de 2019.

Fonte: <https://www.ibge.gov.br/>

O estado com a menor população, segundo o IBGE é:

- a) Acre.
- b) Roraima.
- c) Sergipe.
- d) Paraná.
- e) Nenhuma das alternativas acima

18. Considere os itens, colocando (V) ou (F) nos parênteses se caso for verdadeiro ou falso, respectivamente:

MANCHA DE ÓLEO ATINGIU 16 ÁREAS DO
LITORAL DA PARAÍBA

A mancha de óleo que atingiu o litoral do Nordeste chegou a mais de 12 localidades da Paraíba, de acordo com o Instituto Brasileiro do Meio Ambiente e dos Recursos Naturais Renováveis (Ibama), que monitora a situação desde setembro do ano passado. Ao todo, mais de 100 localidades de vários municípios no Litoral nordestino foram atingidas. Fonte: <https://www.mma.gov.br>

No Litoral Norte da Paraíba houve registro de mancha de óleo nas cidades de:

- () Rio Tinto (Barra do Mamanguape e Lagoa de Praia);
- () Conde (Praia de Tambaba e Jacumã);
- () Mataraca (Barra do rio Camaratuba);
- () Pitimbu (Praia Bela).

A sequência correta é:

- a) V – V – F – F
- b) F – V – F – V
- c) V – F – V – F
- d) V – F – F – F
- e) V – V – V – V

19. Julgue as proposições abaixo e marque a alternativa **correta** sobre as **FAKE NEWS**:



- I- "Chama-se *fake* porque não são informações forjadas e nem fabricadas com invenções de fatos.
II- É um termo criado para atribuir notícias falsas, inexatas ou incompletas sobre um determinado movimento civil, partido político ou pessoa.
III- *Fake News* é um termo em inglês e é usado para referir-se a verdadeiras informações divulgadas, principalmente, em redes sociais, mídias e telejornais de grande circulação.

Está(ão) correta(s)

- a) As afirmativas I, II e III.
b) Apenas as afirmativas II e III.
c) Apenas a afirmativa III.
d) Apenas a afirmativa II.
e) Apenas a afirmativa I.

20. Considere os itens, colocando **(V)** ou **(F)** nos parênteses se caso for **verdadeiro ou falso**, respectivamente sobre a crise na Venezuela:

- (___) A forte economia interna e as tensões políticas forçaram a entrada de cerca de 5 milhões de imigrantes Venezuelanos segundo as Nações Unidas.
(___) A Venezuela encerrou 2019 com uma inflação menor do que o Brasil segundo dados publicados pelo Banco Central Venezuelano (BCV).
(___) O país tem dois presidentes reconhecidos pelo povo, Juan Guaidó e Hugo Chaves. As incertezas ainda permeiam debates sobre a não intervenção militar, ajuda humanitária dos EUA e soluções alternativas.

A sequência correta é:

- a) F – F – F
b) V – V – V
c) F – F – V
d) V – F – F
e) F – V – F

**QUESTÕES - CONHECIMENTOS
ESPECÍFICOS (21 – 40)
03 PONTOS**

21. O Ministério da Saúde vem reforçando a importância do Teste do Pezinho como forma de diagnosticar precocemente as possíveis doenças investigadas e tratá-las em momento oportuno. Segundo informações do governo federal em cinco anos mais de 17 mil recém-nascidos foram diagnosticados com alguma das doenças detectáveis pelo Teste do Pezinho, oferecido pelo SUS. O objetivo da medida é evitar sequelas nas crianças, como a deficiência mental, microcefalia, convulsões, comportamento autista, fibrosamento do pulmão, crises epilépticas, entre outras complicações. Dessa forma, considerando que o Teste do Pezinho é um exame obrigatório para todos os recém-nascidos e sua realização é gratuita na rede pública de saúde, é **CORRETO** afirmar que o Agente Comunitário de Saúde seguindo a recomendação do Ministério da Saúde orientará a família que deverá levar o recém-nascido a uma unidade básica de saúde entre:

- a) 3º e 5º dia de vida da criança.
b) 7º e 8º dia de vida da criança.
c) 9º e 15º dia de vida da criança
d) 15º ao 30º dia de vida da criança.
e) Após o 30º dia de vida da criança.

22. De acordo com a Lei nº 8.069, de 13 de julho de 1990 que dispõe sobre o Estatuto da Criança e do Adolescente, assinale **(V)** ou **(F)** nos parênteses conforme a afirmativa seja **verdadeira ou falsa**, de cima para baixo, respectivamente:

- (___) A adoção é medida excepcional e revogável.
(___) O adotante há de ser, pelo menos, seis anos mais velho do que o adotando.
(___) Em caso de conflito entre direitos e interesses do adotando e de outras pessoas, inclusive seus pais biológicos, devem prevalecer os direitos e os interesses do adotante.
(___) Não podem adotar os ascendentes e os irmãos do adotando.
(___) É proibida a adoção por procuração.

Analisando as afirmativas acima, marque a sequência **CORRETA**:

- a) F – F – V – F - V
b) V – V – V – F - F

- c) V – F – V – F - F
- d) F – F – F – V - V
- e) F – V – F – V - F

23. De acordo com o Ministério da Saúde, é **CORRETO afirmar** que o princípio do Sistema Único da Saúde (SUS) que deve proceder à divisão de níveis de atenção e garantir formas de acesso a serviços que façam parte da complexidade requerida pelo caso, nos limites dos recursos disponíveis numa dada região refere-se a:

- a) Regionalização
- b) Hierarquização
- c) Descentralização
- d) Comando único
- e) Participação popular

24. Em conformidade com a Lei nº 10. 741, de 1 de outubro de 2003 que dispõe sobre o Estatuto do Idoso, nos veículos de transporte coletivo serão reservados _____ dos assentos para os idosos, devidamente identificados com a placa de reservado preferencialmente para idosos. Analise a assertiva que preenche a lacuna **CORRETAMENTE**:

- a) 5%
- b) 10%
- c) 15%
- d) 20%
- e) 25%

25. De acordo com as Noções Básicas de Vigilância Epidemiológica é **CORRETO afirmar** que a elevação do número de casos de uma doença ou agravamento, em um determinado lugar e período de tempo, caracterizando, de forma clara, um excesso em relação à frequência esperada traduz o conceito de:

- a) Surto
- b) Endemia
- c) Epidemia
- d) Pandemia
- e) Peste

26. Considerando o que dispõe a Lei 8.080, de 19 de setembro de 1990 é **CORRETO afirmar** que o CONASS e o CONASSEMS receberão recursos do:

- a) Orçamento geral da União, por meio do Fundo Nacional de Saúde.
- b) Orçamento plurianual estadual, por meio do Fundo Estadual de Saúde.

- c) Orçamento anual municipal, por meio do Fundo Municipal de Saúde.
- d) Orçamento do Distrito Federal, por meio do Fundo Distrital de Saúde.
- e) Orçamento da União, dos Estados e Municípios, por meio do Fundo Tripartite de Saúde.

27. Em conformidade com o Ministério da Saúde, analise as afirmativas abaixo acerca da Leptospirose:

- I. A água sanitária (hipoclorito de sódio a 2,5%) mata as leptospiras e deve ser utilizada para desinfetar reservatórios de água: um litro de água sanitária para cada 1.000 litros de água do reservatório.
- II. A prevenção da leptospirose ocorre se evitar o contato com água ou lama de enchentes e impedir que crianças nadem ou brinquem nessas águas, entre outras medidas.
- III. No Brasil, a vacinação no ser humano é uma forma de prevenção contra a leptospirose.
- IV. As inundações propiciam a disseminação e a persistência da bactéria no ambiente, facilitando a ocorrência de surtos.
- V. Em aproximadamente 45% dos pacientes com leptospirose, ocorre a evolução para manifestações clínicas graves, que normalmente iniciam-se após a primeira semana de doença.

Está (ão) INCORRETA (S):

- a) V
- b) I e IV
- c) III e V
- d) I, II, III e IV
- e) Todas estão incorretas.

28. Marcelo exercendo suas atividades de Agente Comunitário de Saúde (ACS) realizou visitas domiciliares na sua área de atuação com a finalidade de promover orientação sobre a importância da vacinação de crianças nas idades recomendadas no Calendário Nacional de Vacinação. Nesse contexto, considerando que determinada criança recebeu a vacina na idade recomendada pelo Ministério da Saúde, é **CORRETO afirmar** que a primeira dose da vacina Penta foi administrada na criança aos:

- a) 2 meses de idade.
- b) 3 meses de idade.
- c) 4 meses de idade.
- d) 6 meses de idade.
- e) 12 meses de idade.

29. A malária humana é uma doença parasitária que pode ser grave e de evolução rápida, mas não é uma doença contagiosa, portanto uma pessoa doente não é capaz de transmitir a doença diretamente a outra pessoa. Sendo assim, é **CORRETO afirmar** que, é necessária a participação de um vetor, que no caso da malária humana é a fêmea do mosquito Anopheles (mosquito prego), infectada por protozoário do gênero:

- a) *Plasmodium*
- b) *Trichomonas*
- c) *Balantidium coli*.
- d) *Treponema*
- e) *Aedes*

30. O Agente Comunitário de Saúde é o profissional que desempenha atividades de prevenção de doenças e promoção da saúde. Sendo assim, levando em consideração o modelo de atenção em saúde fundamentado na assistência multiprofissional em saúde da família, são consideradas atividades do Agente Comunitário de Saúde compartilhada com os demais membros da equipe, em sua área geográfica de atuação, **EXCETO**:

- a) A participação no planejamento e no mapeamento institucional, social e demográfico;
- b) A orientação de indivíduos e de grupos sociais quanto a fluxos, rotinas e ações desenvolvidos no âmbito da atenção básica em saúde;
- c) O planejamento, o desenvolvimento e a avaliação de ações em saúde;
- d) o estímulo à participação da população no planejamento, no acompanhamento e na avaliação de ações locais em saúde.
- e) Realização de ações de campo para pesquisa entomológica, malacológica e coleta de reservatórios de doenças.

31. Assinale **(V)** ou **(F)** nos parênteses, conforme a assertiva seja **verdadeira** ou **falsa**, respectivamente, de cima para baixo, a respeito da esquistossomose:

() A infecção por esquistossomose é prevalente em áreas tropicais e subtropicais, em comunidades carentes sem acesso a água potável e sem saneamento adequado. Milhões de pessoas em todo o mundo sofrem de patologias graves em consequência da esquistossomose.

() A esquistossomose está relacionada ao saneamento precário.

() Segundo o Ministério da Saúde, estima-se que no Brasil cerca de 1,5 milhões de pessoas

vivem em áreas sob o risco de contrair a doença. Os estados das regiões Nordeste e Sudeste são os mais afetados sendo que a ocorrência está diretamente ligada à presença dos moluscos transmissores.

() A prevenção da esquistossomose consiste em evitar o contato com águas onde existam os caramujos hospedeiros intermediários infectados.

() Não há vacina contra a esquistossomose.

Está (ão) **CORRETA (S)**:

- a) F – F – F – F – F.
- b) F – V – F – F – V.
- c) V – F – F – V – F.
- d) F – F – V – F – F.
- e) V – V – V – V – V.

32. De acordo com o Ministério da Saúde, o Programa Nacional de Imunizações tem avançado ano a ano para proporcionar melhor qualidade de vida à população com a prevenção de doenças. À vista disso, é **CORRETO** afirmar que a vacina tríplice viral prevista no Calendário Nacional de Vacinação previne contra as seguintes doenças:

- a) Caxumba, sarampo e difteria
- b) Pneumonia, coqueluche e tétano.
- c) Meningite, coqueluche, hepatite B.
- d) Sarampo, caxumba e rubéola.
- e) Difteria, tétano e caxumba.

33. O Agente Comunitário de Saúde deve estar atento às doenças que podem acometer às famílias cadastradas em sua área de atuação, bem como promover ações educativas com o objetivo de orientá-las. Recentemente, a Organização Mundial de Saúde (OMS) elevou o risco de disseminação do coronavírus, devido à gravidade do surto. Embora, o Brasil ainda não tenha até o presente momento nenhum caso registrado é importante ficar atento às formas de prevenção que foram recomendadas pelo Ministério da Saúde brasileiro. A respeito do coronavírus, é **INCORRETO** afirmar que é medida preventiva:

- a) Evitar contato próximo a pessoas que apresentem sinais ou sintomas da doença;
- b) Manter os ambientes fechados;
- c) Higienizar as mãos após tossir ou espirrar;
- d) Evitar contato próximo com quem sofrem de infecções respiratórias agudas;
- e) Evitar tocar nas mucosas de olhos, nariz e boca.

34. São atividades do ACS na prevenção da dengue, **EXCETO**:

- a) Orientar as famílias a recolher sacos plásticos e lixo do quintal.
- b) Conscientizar sobre a importância de utilizar o repelente.
- c) Conscientizar a comunidade para manter garrafas de vidros e latinhas de boca para cima.
- d) Promover rodas de conversas sobre não deixar água acumulada sobre a laje.
- e) Incentivar a comunidade a manter tampados os tonéis, caixas e barris de água.

35. De acordo com o Ministério da Saúde, é **CORRETO** afirmar que os principais vetores de transmissão da Leishmaniose Tegumentar (LT) são os:

- a) Ratos.
- b) Gatos.
- c) Cães.
- d) Morcegos.
- e) Mosquitos.

36. A Lei nº 8.080/90 regulamenta a Constituição Federal de 1988 e é a primeira Lei Orgânica do SUS (Sistema Único de Saúde). A Lei dispõe sobre a promoção, proteção e recuperação da saúde e a organização e o funcionamento dos serviços correspondentes. No primeiro artigo da Lei Orgânica faz uma referência ao artigo 196 da Constituição Federal.

Diante do que foi dito, marque **a alternativa correta**.

- a) Art. 1º Esta lei regula, em todo o território nacional, as ações e serviços de saúde, executados isolada ou conjuntamente, em caráter permanente ou eventual, por pessoas naturais ou jurídicas de direito Público ou privado.
- b) Art. 1º Esta lei regula, em todo o território nacional e internacional, as ações e serviços de saúde, executados isolada ou conjuntamente, em caráter permanente ou eventual, por pessoas naturais ou jurídicas de direito Público ou privado.
- c) Art. 1º Esta lei regula, em todo o território nacional, as ações e serviços de saúde, executados isolada em caráter não permanente e eventual, por pessoas naturais ou jurídicas de direito Público ou privado.
- d) Art. 1º Esta lei regula, em todo o território internacional, as ações e serviços de saúde, executados isoladamente e esporadicamente, em caráter permanente, abstrato ou eventual, por

pessoas naturais ou jurídicas de direito Público ou privado.

- e) Art. 1º Esta lei regula, em todo o território nacional, as ações e serviços de saúde, executados de forma conjuntamente, em caráter permanente ou eventual, por pessoas naturais ou jurídicas de direito Público ou privado.

37. O Sistema Único de Saúde (SUS) é um dos maiores e mais complexos sistemas de saúde pública do mundo, abrangendo desde o simples atendimento para avaliação da pressão arterial, por meio da Atenção Primária, até o transplante de órgãos, garantindo acesso integral, universal e gratuito para toda a população do país. O artigo 4º da Lei 8.080/90 conceitua o SUS como um conjunto de ações e serviços de saúde prestados:

Marque a alternativa correta.

- a) por instituições presentes em duas pequenas esferas do Governo e da administração direta e indiretas das fundações mantidas pelo Poder Público. De forma complementar, a iniciativa privada tem a possibilidade de participar do SUS.
- b) por instituições presentes nas três esferas do Governo e da administração direta e indiretas das fundações mantidas pelo Poder Público. De forma complementar, a iniciativa privada tem a possibilidade de participar do SUS.
- c) por instituições presentes nas três esferas do Governo e da administração direta sendo vedada a participação da administração indireta das fundações mantidas pelo Poder Público. De forma complementar, a iniciativa privada tem a possibilidade de participar do SUS.
- d) por instituições presentes nas duas esferas do Governo e da administração direta e indiretas das fundações mantidas pela economia mista do Poder Público. De forma complementar, a iniciativa privada tem a possibilidade de participar do SUS.
- e) Por instituições presentes nas duas esferas do Governo e da administração direta e indiretas das fundações mantidas pelo Poder Público. De forma complementar, a iniciativa privada tem a possibilidade de participar do SUS desde que altere seu Cadastro e estatuto de criação social.

38. São objetivos do SUS, **exceto**:

- a) Identificar e divulgar os fatores condicionantes e determinantes da saúde;

- b) Formular a política de saúde nos campos econômicos e sociais para reduzir riscos de doenças e outros agravos;
- c) Oferecer assistência à população por meio de ações de promoção, proteção e recuperação da saúde;
- d) Executar ações assistenciais e preventivas de modo a garantir às pessoas a assistência integral à sua saúde
- e) Formular a política financeira, habitacional, vinculando a taxa de juros à saúde nos campos econômicos e sociais para reduzir riscos de doenças e outros agravos.

39. Acerca dos princípios doutrinários que conferem legitimidade ao SUS (Sistema Único de Saúde) é **CORRETO** afirmar que:

- a) O SUS está fundamentado no acesso na região exclusiva do nordeste, visando dar a assistência Integral e igualitária e isso representa um grande avanço por permitir a inclusão social de milhões de brasileiros às ações de saúde.
- b) O SUS está fundamentado no acesso a zona urbana, excesso do universal, na assistência Integral e igualitária e isso representa um grande avanço por permitir a inclusão social de milhões de brasileiros às ações de saúde.
- c) O SUS está fundamentado no acesso universal, na assistência Integral e igualitária e isso representa um grande avanço por permitir a inclusão social de milhões de brasileiros às ações de saúde.
- d) O SUS está fundamentado no acesso transversal e retilíneo territorial, na assistência Integral e igualitária e isso representa um grande avanço por permitir a inclusão social de milhões de brasileiros às ações de saúde.
- e) O SUS está fundamentado no acesso universal, na assistência parental, Integral e com desigualitária por idade e isso representa um grande avanço por permitir a inclusão social de milhões de brasileiros às ações de saúde.

40. **“Constituir, portanto, a saúde como ‘um direito de todos e dever do Estado’ implica enfrentar questões tais como a de a população buscar a utilização dos serviços públicos de saúde tendo por referência a sua proximidade, enquanto para os serviços privados a referência principal consiste em ‘ter direito’. Da mesma forma, e exatamente porque essas questões remetem à tradição brasileira de direitos sociais vinculados a um contrato compulsório de caráter contributivo, contrapostos a medidas**

assistencialistas aos carentes, a equidade na universalização do direito à saúde está estreitamente vinculada às mudanças das políticas de saúde no interior de um processo de alteração da relação do Estado com a sociedade, o que vale dizer, da alteração do sistema de poder no país.”

A saúde como direito e como serviço, Amélia Cohn (1991, p. 25)

Podemos afirmar que a saúde é:

- a) um direito fundamental do ser humano e dever do Estado de garantir a saúde de forma igualitária e universal por meio de políticas econômicas e sociais.
- b) um dever fundamental do ser humano e direito do Estado de garantir a saúde de forma igualitária e universal por meio de políticas econômicas e sociais.
- c) um direito arbitrário do ser humano e dever estado puerpério de garantir a saúde de forma igualitária e universal por meio de políticas econômicas e sociais.
- d) um direito secundário do ser humano e direito da economia privada do Estado de garantir a saúde de forma igualitária e universal por meio de políticas econômicas e sociais.
- e) um direito terciário do ser humano e direito do Estado de garantir a saúde de forma igualitária e universal por meio de políticas econômicas e sociais.