



CONCURSO PÚBLICO - PROVA OBJETIVA

ASSINATURA DO(A) CANDIDATO

Nº DE INSCRIÇÃO

CONTEMAX

CONSULTORIA TÉCNICA E PLANEJAMENTO LTDA

PREFEITURA MUNICIPAL DE MATARACA

CARGO: AGENTE ADMINISTRATIVO

INSTRUÇÕES:

VERIFIQUE SE ESTE CADERNO:

- Corresponde a sua opção de cargo.
- Contém 40 (quarenta) questões, numeradas de 01 a 40, caso contrário reclame ao fiscal da sala outro caderno. **NÃO** serão aceitas reclamações posteriores.
- Para cada questão existe apenas **UMA** resposta certa.
- Você deve ler cuidadosamente cada uma das questões e escolher a resposta certa.
- A alternativa escolhida deve ser marcada na **FOLHA DE RESPOSTAS** que você recebeu.

VOCÊ DEVE:

- Procurar na **FOLHA DE RESPOSTAS**, o número da questão que você está respondendo.
- Verificar no caderno de prova qual a letra (A, B, C, D, E) da resposta que você escolheu.
- Marcar essa letra na **FOLHA DE RESPOSTAS**, conforme o exemplo: [■].

ATENÇÃO:

- Marque as respostas com caneta esferográfica azul ou preta.
- Marque apenas uma letra para cada questão, mais de uma letra assinalada implicará nota zero à questão.
- Não será permitida qualquer espécie de consulta, nem o uso de máquina calculadora.
- Você terá 3 (três) horas para responder a todas as questões e preencher a folha de respostas.
- Devolva esse caderno de prova ao aplicador, juntamente com a sua folha de respostas.
- Proibida a divulgação ou impressão parcial ou total da presente prova. **Direitos Reservados.**

**QUESTÕES - LÍNGUA PORTUGUESA (1 – 12)
02 PONTOS****TEXTO I
EU VEJO UMA GRAVURA**

Eu vejo uma gravura
grande e rasa.
No primeiro plano
Uma casa.
À direita da casa
outra casa.
À esquerda da casa
outra casa.
Lá no fundo da casa
outra casa.
Em frente da casa
uma vala:
onde escorre a lama
doutra casa.

E no chão da casa
outra vala:
onde escorre o esgoto
doutra casa.
Esta casa que eu vejo
não se casa
com o que chamamos
uma casa.
Pois as paredes são
Esburacadas
onde passam aranhas
e baratas.

E os telhados são
folhas de zinco.
E podem cair
a qualquer vento.
E matar a mulher
que mora dentro.
E matar a criança
que está dentro
da mulher que mora
nessa casa.
Ou da mulher que mora
noutra casa.

É preciso pintar
outra gravura
com casas de argamassa
na paisagem.

Crianças cantando
a segurança

da vida construída
à sua imagem.

JOANA EM FLOR, Reynaldo Jardim.

01. Tendo em vista o contexto do poema, nestes versos “*Esta casa que eu vejo / não se casa / com o que chamamos / uma casa. / Pois as paredes são / Esburacadas / onde passam aranhas / e baratas.*” pode-se perceber que fica revelado um sentimento do eu lírico. Esse sentimento é de:

- a) raiva
- b) indignação
- c) nostalgia
- d) esperança
- e) sarcasmo

02. Textos como o acima apresentam caráter poético, pois podem ser considerados pertencentes ao gênero lírico, que, geralmente, utilizam uma linguagem carregada de subjetividade e emotividade. No entanto, no poema de Reynaldo Jardim, observa-se, pelas escolhas linguísticas do poeta, o predomínio de um determinado recurso de linguagem que se distancia, até certo ponto, da subjetividade comum aos poemas. Tal recurso está **corretamente** indicado na opção:

- a) referencialidade, destacando elementos da realidade.
- b) personificação de elementos do cotidiano.
- c) interpelação ao leitor.
- d) objetividade observada no uso da 3ª pessoa do discurso.
- e) completa neutralidade do emissor.

03. Ao lado do aspecto lírico do poema, destacam-se características de uma determinada tipologia textual; tal tipologia está corretamente apontada na alternativa:

- a) narrativa
- b) descritiva
- c) injuntiva
- d) epistolar
- e) expositiva

04. A linguagem do poema organiza-se de forma a chamar a atenção sobre si. Para esse fim, as figuras de linguagem cumprem um papel importante. Na 1ª estrofe, sobressai uma delas, que está corretamente indicada na opção:

- a) metáfora
- b) antítese
- c) eufemismo

- d) metonímia
- e) elipse

05. Dentre as diversas estratégias discursivas, pode-se destacar o uso de conectivos lógicos para estabelecer a coesão e a coerência do texto, promovendo, dentre outras funções, a progressão textual. Nos versos “*Esta casa que eu vejo / não se casa / com o que chamamos / uma casa. / Pois as paredes são / Esburacadas / onde passam aranhas / e baratas.*”, encontra-se um exemplo desse mecanismo de coesão com o uso de uma conjunção. Trata-se do vocábulo:

- a) esta
- b) que
- c) uma
- d) pois
- e) onde

06. Pode-se perceber ao longo do poema a recorrência do vocábulo “outra”; essa repetição, nesse poema *Eu Vejo uma Gravura*, contribui para criar uma imagem de:

- a) insulamento

- b) organização
- c) aversão
- d) aglomerado
- e) perfeccionismo

07. Em relação à organização sintática do poema, na 2ª estrofe, os períodos apresentam-se como:

- a) compostos por coordenação, principalmente.
- b) simples, em sua maioria.
- c) compostos por subordinação, principalmente.
- d) compostos por coordenação e subordinação, igualmente.
- e) compostos por coordenação, apenas.

08. A palavra “*construída*” é acentuada de acordo com determinada regra; a palavra que atende à mesma regra de acentuação está corretamente apontada na opção:

- a) ídiche
- b) biquíni
- c) substituí-lo
- d) ravióli
- e) herói

TEXTO II



QUINO, J. L. Toda Mafalda. São Paulo: Martins Fontes, 2003

09. O recurso estilístico presente na fala de Mafalda, no 2º quadrinho, está corretamente apontado na opção:

- a) comparação
- b) metáfora
- c) metonímia
- d) hipérbole
- e) gradação

10. No 2º quadrinho, há um problema gramatical. Esse problema é de ordem:

- a) sintática, quanto à pontuação.
- b) morfológica, quanto à flexão verbal.
- c) sintática, quanto à regência.
- d) coesiva.
- e) morfológica, quanto à flexão nominal.

11. No último quadrinho, a colocação do pronome em “*Era só escondê-los!*” está inadequada gramaticalmente; o mesmo ocorre em:

- a) Quando se sentiu em dificuldade, pediu ajuda.
- b) Não devo dar-lhe mais explicações.
- c) Nada me convenceria a trair meus princípios.

d) O contrato dar-se-ia por força das novas demandas de trabalho.


e) Se apresentar-lhe os pêsames, faça-o discretamente.

12. O vocábulo “bem-estar”, no 3º quadrinho, está corretamente grafado com hífen. Assinale a alternativa em que há um vocábulo também corretamente grafado:

- a) auto-escola
- b) hiper-sensibilidade
- c) inter-relação
- d) co-herdeiro
- e) infra-estrutura

QUESTÕES - RACIOCÍNIO LÓGICO (13 – 16)
02 PONTOS


13. Observe as três balanças



Quantos quilogramas pesa o mamão?

- a) 650 gramas
- b) 415 gramas
- c) 1065 gramas
- d) 895 gramas
- e) 245 gramas

14. Duas caixas de suco enchem onze copos



Quantas caixas de suco são necessárias para encher 38 copos e meio?

- a) 8 caixas
- b) 7 caixas e meia
- c) 7 caixas
- d) 6 caixas e meia
- e) 6 caixas

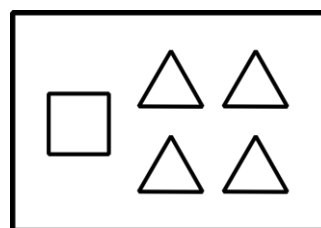
15. Considere as seguintes afirmações

- Alguns Greens são Bartons
- Alguns Bartons são Lasters e Arns
- Nem todo Laster é Arn, mas todo Arn é Laster
- Nenhum Green é Laster

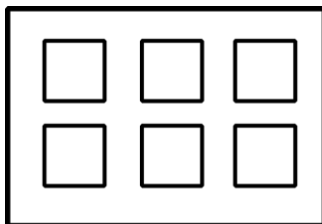
Então, é necessariamente **incorreto**:

- a) Nenhum Laster é Green
- b) Alguns Bartons são Greens
- c) Existem Bartons que não são Arns
- d) Alguns Arns são Bartons
- e) Existem Greens que são Arns

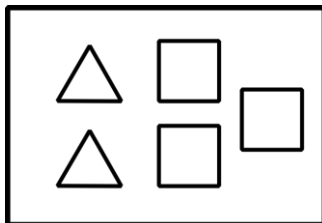
16. As figuras abaixo representam 5 caixas de peças, contendo figuras geométricas planas.



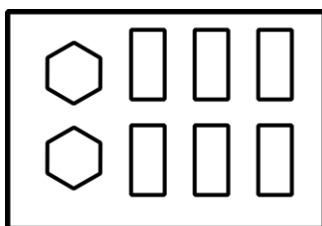
caixa 1



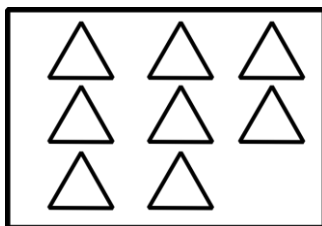
caixa 2



caixa 3

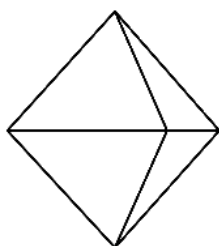
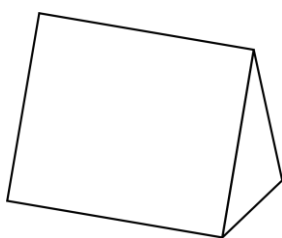


caixa 4



caixa 5

A partir de quais caixas é possível montar os seguintes sólidos?



- a) caixa 1 e caixa 2
b) caixa 3 e caixa 4
c) caixa 2 e caixa 5
d) caixa 3 e caixa 5
e) caixa 1 e caixa 4

QUESTÕES - ATUALIDADES (17 – 20)
02 PONTOS

17. Considere o texto abaixo e marque a alternativa correta

ESTIMATIVA DA POPULAÇÃO DO BRASIL
PASSA DE 210 MILHÕES, DIZ IBGE

A população brasileira foi estimada em 210,1 milhões de habitantes em 5.570 municípios, segundo o Instituto Brasileiro de Geografia e Estatística (IBGE). A estimativa com o total de habitantes dos estados e dos municípios se refere a 1º de julho de 2019.

Fonte: <https://www.ibge.gov.br/>

O estado com a menor população, segundo o IBGE é:

- a) Acre.
b) Roraima.
c) Sergipe.
d) Paraná.
e) Nenhuma das alternativas acima

18. Considere os itens, colocando (V) ou (F) nos parênteses se caso for verdadeiro ou falso, respectivamente:

MANCHA DE ÓLEO ATINGIU 16 ÁREAS DO
LITORAL DA PARAÍBA

A mancha de óleo que atingiu o litoral do Nordeste chegou a mais de 12 localidades da Paraíba, de acordo com o Instituto Brasileiro do Meio Ambiente e dos Recursos Naturais Renováveis (Ibama), que monitora a situação desde setembro do ano passado. Ao todo, mais de 100 localidades de vários municípios no Litoral nordestino foram atingidas. Fonte: <https://www.mma.gov.br>

No Litoral Norte da Paraíba houve registro de mancha de óleo nas cidades de:

- (___) Rio Tinto (Barra do Mamanguape e Lagoa de Praia);
(___) Conde (Praia de Tambaba e Jacumã);
(___) Mataraca (Barra do rio Camaratuba);
(___) Pitimbu (Praia Bela).

A sequência correta é:

- a) V – V – F – F
b) F – V – F – V
c) V – F – V – F
d) V – F – F – F
e) V – V – V – V

19. Julgue as proposições abaixo e marque a alternativa **correta** sobre as **FAKE NEWS**:



- I- “Chama-se *fake* porque não são informações forjadas e nem fabricadas com invenções de fatos.
- II- É um termo criado para atribuir notícias falsas, inexatas ou incompletas sobre um determinado movimento civil, partido político ou pessoa.
- III- *Fake News* é um termo em inglês e é usado para referir-se a verdadeiras informações divulgadas, principalmente, em redes sociais, mídias e telejornais de grande circulação.

Está(ão) correta(s)

- a) As afirmativas I, II e III.
- b) Apenas as afirmativas II e III.
- c) Apenas a afirmativa III.
- d) Apenas a afirmativa II.
- e) Apenas a afirmativa I.

20. Considere os itens, colocando **(V)** ou **(F)** nos parênteses se caso for **verdadeiro ou falso**, respectivamente sobre a crise na Venezuela:

(___) A forte economia interna e as tensões políticas forçaram a entrada de cerca de 5 milhões de imigrantes Venezuelanos segundo as Nações Unidas.

(___) A Venezuela encerrou 2019 com uma inflação menor do que o Brasil segundo dados publicados pelo Banco Central Venezuelano (BCV).

(___) O país tem dois presidentes reconhecidos pelo povo, Juan Guaidó e Hugo Chaves. As incertezas ainda permeiam debates sobre a não intervenção militar, ajuda humanitária dos EUA e soluções alternativas.

A sequência correta é:

- a) F – F – F
- b) V – V – V
- c) F – F – V
- d) V – F – F
- e) F – V – F

**QUESTÕES - CONHECIMENTOS
ESPECÍFICOS (21 – 40)
03 PONTOS**

21. Acerca de seus conhecimentos em redação oficial, é correto afirmar que o fecho adequado a um texto no padrão ofício em que o emissor possui hierarquia inferior ao receptor é

- a) “Com protestos de elevada estima”.
- b) “Respeitosamente”.
- c) “Atenciosamente”.
- d) “Cordialmente”.
- e) “Att”.

22. Segundo Odair Beltrão (1980), _____ é um documento em que se registram, resumidamente, mas com clareza, as ocorrências de uma reunião de pessoas para determinado fim. Assinale a alternativa que indica a o documento **correto** que completa a lacuna acima.

- a) Portaria
- b) Ofício
- c) Memorando
- d) Edital
- e) Ata

23. As estruturas organizacionais variam de funcionais a projetizadas, com uma variedade de estruturas matriciais entre elas. A equipe administrativa de gerenciamento de projetos trabalha em tempo integral nas estruturas organizacionais:

- a) Matriz Forte e Matriz Fraca.
- b) Matriz Balanceada e Matriz Forte.
- c) Matriz Balanceada e Projetizada.
- d) Projetizada e Matriz Fraca.
- e) Matriz Forte e Projetizada.

24. Acerca das noções de arquivologia, marque a assertiva **correta**.

- a) A divisão do gênero documental que reúne documentos é conhecida como tipo documental.
- b) Arquivologia utiliza métodos predeterminados para a classificação dos documentos de arquivo das atividades-fim da instituição.
- c) A difusão dos documentos de arquivo é feita no arquivo permanente.
- d) O plano de prevenção de acidentes em acervos documentais é resultado da avaliação de documentos.

e) O registro de documentos no protocolo consiste na anotação dos vários setores por onde passou o documento.

25. Acerca das noções de arquivologia, assinale a alternativa **correta**.

- a) Acumulação é a totalidade dos documentos conservados em um arquivo.
- b) Acesso é a possibilidade de consulta a um arquivo que prescinde de autorização legal.
- c) Acervo é o conjunto de documentos de uma entidade produtora ou de uma entidade custodiadora, mantidos sobre a guarda de um arquivo. Documentos de uma entidade produtora ou de uma entidade custodiadora.
- d) Arquivamento é o processo de embalagem destinado a proteger os documentos e a facilitar seu manuseio.
- e) Acondicionamento é o conjunto das operações de arquivamento e armazenamento de documentos.

26. A arquivologia tem por objeto o conhecimento da natureza dos arquivos e das teorias, métodos e técnicas a serem observados na sua constituição, organização, desenvolvimento e utilização. Sobre as noções de arquivologia, julgue os itens a seguir.

I. Quanto às instalações físicas da unidade de arquivo, devem ser evitados locais com umidade alta.

II. Os descartes efetuados na terceira idade justificam-se para os documentos destituídos de valor.

III. Coleção é conjunto de documentos mantidos sob guarda de um arquivo.

Pode-se afirmar que:

- a) somente I está correta.
- b) somente II está correta.
- c) somente III está correta.
- d) há apenas duas afirmativas corretas.
- e) todas estão corretas.

27. O arquivamento de um documento passar por diversas etapas até que efetivamente seja concluído. Diante disso, marque a assertiva **correta** que indicam quais são essas etapas do processo de arquivamento.

- a) Simplicidade, flexibilidade, acessibilidade e uniformidade.
- b) Inspeção, Estudo, Classificação, Codificação, Ordenação e guarda dos documentos.

c) Registro, arranjo físico, mapeamento para consulta e recuperação.

d) Seleção, análise, digitalização, classificação e codificação de documentos.

e) Estudo, Classificação, digitalização, classificação e codificação de documentos.

28. O ato administrativo, o qual expressa a manifestação da vontade administrativa, para ser legítimo necessita que esteja revestido de todos os requisitos de validade. Nesse sentido, marque a assertiva abaixo que indique, **corretamente**, os requisitos de validade do ato administrativo.

a) Quando emanado do Poder Executivo e em conformidade com as normas legais.

b) Quando esgotar todas as fases necessárias à sua produção.

c) Quando após ser analisado pelo Poder Judiciário, for considerado válido.

d) Quando considerado disponível para a produção de seus efeitos próprios.

e) Quando expedido em absoluta conformidade com as exigências do sistema normativo.

29. Sobre o poder regulamentar, marque a assertiva que representa o seu objetivo.

a) Organizar as atividades administrativas, mediante a edição de regulamentos e portarias.

b) Editar normas complementares à lei para a sua fiel execução.

c) Prerrogativa conferida ao chefe do poder legislativo para editar decreto e regulamentos para a fiel execução das leis.

d) Fazer o controle das atividades de órgãos inferiores, estabelecendo ordem a subordinados e averiguando a legalidade dos atos praticados.

e) Impor e aplicar sanções administrativas a seus subordinados.

30. Os atos administrativos valem até a data neles prevista ou, como regra geral, até que outro ato os revogue ou anule. Desde o nascimento, seja ele legítimo ou não, produz seus efeitos, em face da presunção de legitimidade e veracidade. Duas são as maneiras de um ato ser desfeito: revogação e anulação. Analise as seguintes afirmativas quanto à anulação.

I. É a forma de desfazer um ato válido, legítimo, mas que não é mais conveniente, útil ou oportuno. Ocorre em função de não cumprimento das condições que

deveriam ser atendidas para manter a situação fática jurídica.

II. Um ato é nulo quando afronta a lei, quando foi produzido com alguma ilegalidade. Pode ser declarada pela própria Administração Pública, no exercício de sua autotutela, ou pelo Judiciário.

III. Opera efeitos “*ex nunc*”, não retroagindo, exceto em relação a terceiros de boa-fé. Entre as partes, não gera direitos ou obrigações, não constitui situações jurídicas definitivas, nem admite convalidação.

Pode-se afirmar que:

- a) somente I está correta.
- b) somente II está correta.
- c) somente III está correta.
- d) há apenas duas afirmativas corretas.
- e) todas estão corretas.

31. O Correio Eletrônico ou e-mail é um serviço para envio e recepção de mensagens entre correspondentes.

Assinale a alternativa **correta** para quais são os protocolos de serviços da internet responsáveis pelo envio e recepção de mensagens eletrônicas, e-mail.

- a) FTP e POP
- b) SMTP e POP
- c) HTTP e SMTP
- d) SFTP e POP
- e) Todas as alternativas estão corretas

32. Segundo a RFC 2374, uma mesma interface, que utiliza o protocolo IPv6, pode utilizar mais de um endereço, diferentemente do IPv4, onde tal característica só era possível em roteadores. Essa característica é importante porque na versão 6 algumas aplicações, em geral de controle, utilizam-se de endereços especiais que veremos adiante. Para o endereçamento das interfaces existem então 3 tipos de endereços assinale a alternativa **correta**:

- a) Anycast , Peer to Peer, Home Cast
- b) Unicast, Anycast e Broadcast
- c) Unicast, Anycast e Multicast
- d) Todas as Alternativas estão erradas
- e) Unicast, Anycast e Peer to Peer

33. Para selecionar todo o texto de um documento que está sendo editado no Word devem ser pressionadas simultaneamente as teclas:

- a) Shift + S
- b) Shift + C

- c) Ctrl + T
- d) Ctrl + A
- e) Ctrl + D

34. O Microsoft Excel é um(a):

- a) Browser
- b) Editor de Planilhas
- c) Editor de textos
- d) Sistema operacional
- e) Banco de dados

35. Assinale a alternativa que melhor descreve uma INTRANET.

- a) é uma rede de computadores, que disponibiliza um conjunto de serviços análogo à Internet, também baseada na pilha de protocolos TCP/IP é restrita a um local físico.
- b) é a rede mundial de computadores, composta por todos os computadores do mundo ligados em rede. Seu funcionamento é baseado na Pilha de Protocolos TCP/IP.
- c) funciona como uma extensão da Intranet a computadores que estejam fora dos domínios físicos da Intranet.
- d) Todas as Alternativas estão correta
- e) Nenhuma das alternativas esta correta

36. No MS-PowerPoint 2010, um usuário deseja efetuar a verificação da ortografia do conteúdo presente em seus slides. Uma das formas para realizar tal tarefa é acessar o botão Verificar Ortografia, que, na configuração padrão do MS-PowerPoint 2010, é acessível por meio da aba.

- a) Exibição
- b) Revisão
- c) Inserir
- d) Início
- e) Animações

37. Para enviar mensagens cada programa de e-mail possui uma maneira própria de encaminhar as mensagens e o usuário deve verificar suas orientações e regulamentos. Para que o e-mail seja enviado é importante preencher os seguintes dados assinale a alternativa **incorreta**.

- a) To: é o endereço para qual será enviada a mensagem;
- b) Cc: vem do inglês Carbon Copy (cópia carbonada). Nesse espaço você coloca o endereço de uma pessoa que receberá uma cópia do e-mail.

RASCUNHO

- c) Bcc: vem do inglês Blind Carbon Copy (cópia cega). Utilizado quando o usuário deseja encaminhar um e-mail e anexa um destinatário que não deve aparecer na mensagem para as outras pessoas.
- d) Subject: é o assunto de sua mensagem e pode ou não ser preenchido.
- e) CRYPTOGRAPHY: Criptografia da mensagem

38. Considerando o Windows 10, versão em português, em sua instalação padrão, no Explorador de Arquivos, a antiga funcionalidade conhecida como “**MEU COMPUTADOR**” recebeu a nova nomenclatura de:

- a) Computador Gerencial.
b) Status Geral.
c) Computador Local.
d) Este Computador.
e) Nenhuma das alternativas

39. Memórias – as memórias são dispositivos que armazenam temporária ou permanentemente informações assinale a alternativa **INCORRETA**:

- a) Memória RAM
b) Memória Cache
c) Memória ROM
d) Memória Virtual
e) Memória Flutuante

40. Assinale a alternativa **CORRETA** sobre protocolos de serviços da Internet

- a) HTTP
b) POP e SMTP
c) FTP
d) TELNET/IRC
e) Todas as alternativas estão corretas